

1. Realiza estas sumas. Puedes hacerlas en un papel y copiar el resultado.

$$\begin{array}{r} 67 \\ + 26 \\ \hline \end{array}$$

$$\begin{array}{r} 89 \\ + 71 \\ \hline \end{array}$$

$$\begin{array}{r} 34 \\ + 89 \\ \hline \end{array}$$

$$\begin{array}{r} 68 \\ + 82 \\ \hline \end{array}$$

2. Realiza estas restas. Puedes hacerlas en un papel y copiar el resultado.

$$\begin{array}{r} 87 \\ - 29 \\ \hline \end{array}$$

$$\begin{array}{r} 33 \\ - 17 \\ \hline \end{array}$$

$$\begin{array}{r} 56 \\ - 38 \\ \hline \end{array}$$

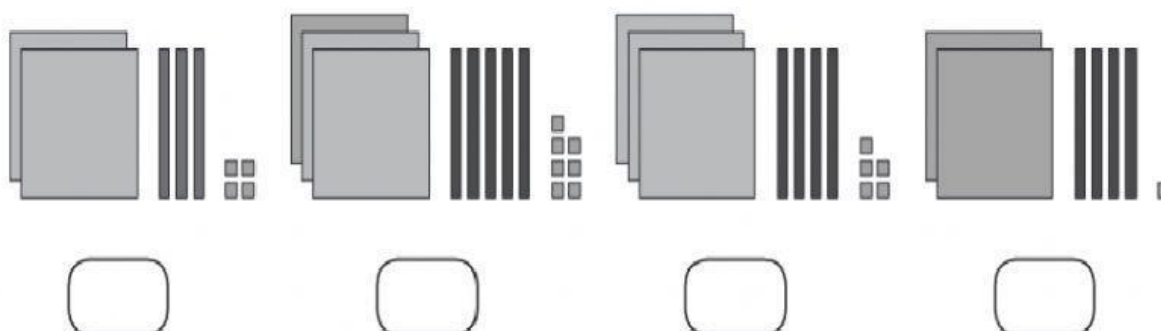
$$\begin{array}{r} 23 \\ - 19 \\ \hline \end{array}$$

3. Escribe el número anterior y posterior de cada número.

	279	
	341	
	247	
	305	

	389	
	280	
	354	
	199	

4.- Escribe el número representado en cada caso.



5.- Escribe como se lee cada número.

279 _____

308 _____

245 _____

6.- Escribe con cifras.

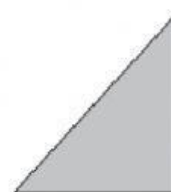



Trescientos cincuenta y uno _____

Doscientos noventa _____

Trescientos siete _____

Doscientos catorce _____

7.-Cuenta y completa:



Vértices

Vértices

Vértices

Vértices

Lados

Lados

Lados

Lados

8. Hay 35 guirnaldas rojas y 18 verdes para decorar el colegio. ¿Cuántas guirnaldas rojas más que verdes hay?

PARA RESOLVER EL PROBLEMA DEBES ESCRIBIR LOS DATOS, PINCHAR EN LA OPERACIÓN QUE DEBES HACER Y ESCRIBIR LA SOLUCIÓN. PUEDES HACER LA OPERACIÓN EN UN PAPEL PARA NO EQUIVOCARTE.

Datos ► y

Operación ►

Solución ►