


LA FUNCIÓN DE REPRODUCCIÓN.

NOMBRE:

FECHA:

LEE EL CONTENIDO DE LAS PÁGINAS 43, 44, 46, 47, 48, 49, 50 Y 51 PARA REALIZAR LAS ACTIVIDADES.

OBSERVA EL VIDEO



1. Completa el texto sobre la función de relación con la palabra que corresponda.

cambios físicos reproductor reproducción pubertad formación individuos progenitores célula

La _____ es una de las funciones del ser humano que se basa en la _____ de nuevos _____ con características similares a sus _____ a partir de la unión de una _____ sexual femenina con una masculina.

La etapa de crecimiento en el cual se desarrolla plenamente el sistema _____ se conoce como _____, en esta etapa se produce una serie de _____ distintos según el sexo.

2. Selecciona los cambios que pertenecen a las chicas.

- a. Aparece vello en el pubis, las axilas, las piernas, etc.
- b. Aumenta el tamaño de los pechos.
- c. Se produce el ensanchamiento de las caderas.
- d. La voz se hace más grave.
- e. Se inicia la menstruación.
- f. Se producen las primeras eyaculaciones.

APARATO REPRODUCTOR FEMENINO

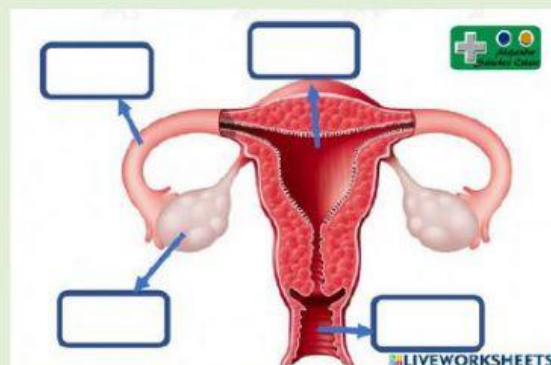
Ubica las partes del aparato reproductor femenino

ÚTERO

OVARIOS

TROMPAS DE FALOPIO

VAGINA



Une la parte del aparato reproductor femenino con la función que cumple.

Ovarios

Recoge los óvulos y los conduce al útero

Útero

Comunica al útero con el exterior del cuerpo

Trompas de Falopio

Producen óvulos.

Vagina

Aloja al nuevo ser en caso de embarazo

Coloca la palabra que corresponde a la definición.

útero

ovarios

trompas de Falopio

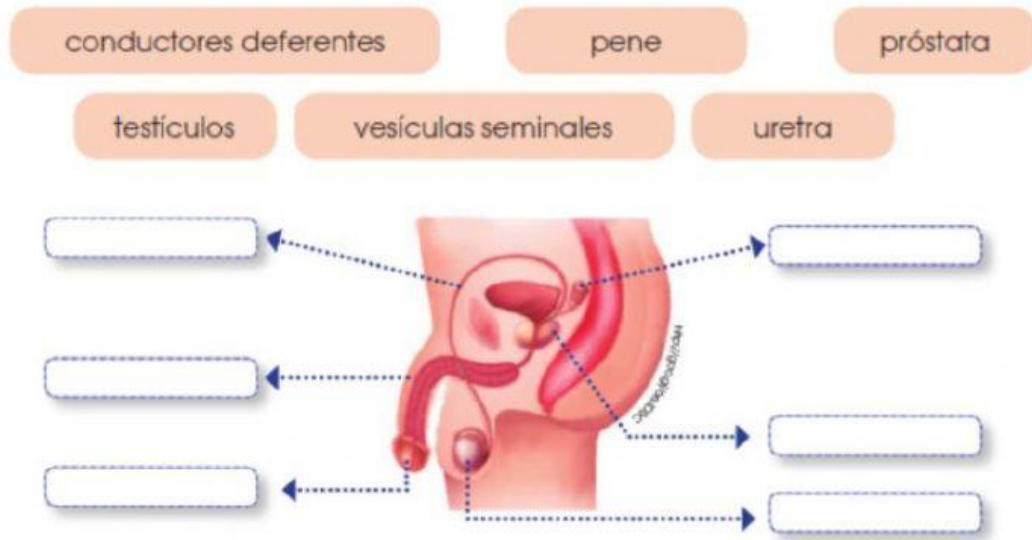
- Son dos órganos redondos y producen los óvulos: _____
- Son dos conductos que recogen los óvulos liberados por los ovarios: _____
- Es en forma de bolsa y sirve de alojamiento para el bebé en el embarazo: _____

Encuentra en la sopa de letras cuatro palabras relacionadas con la formación de los óvulos.

a	d	f	e	u	j	m	h	j	k	l	y	w	e	s	v
l	m	e	n	o	p	a	u	s	i	a	j	i	a	a	i
a	s	f	g	v	h	j	r	z	v	g	y	j	i	e	e
g	h	l	i	u	e	n	d	o	m	e	t	r	i	o	n
o	v	u	l	a	c	i	ó	n	f	e	q	j	k	l	t
n	i	e	v	a	s	x	a	v	c	e	n	h	t	d	o
e	r	j	n	ó	i	c	a	u	r	t	s	n	e	m	u

APARATO REPRODUCTOR MASCULINO

Escriba las partes del aparato reproductor masculino en el siguiente gráfico.



Une las partes del aparato reproductor masculino con la función respectiva.

Pene	Segrega líquido prostático que alimenta a los espermatozoides
Próstata	Tubos que conducen los espermatozoides desde los testículos hasta la uretra.
Testículos	Son órganos que segrega líquido seminal.
Vesículas seminales	Producen espermatozoides
Conductos deferentes	Depositar los espermatozoides en el interior del aparato reproductor femenino

14 Completa la frase con las siguientes palabras:

masculinas

espermatozoides

desplazarse

testículos

acuoso

a. Los _____ son células sexuales _____. Presentan una cola larga para _____ por un medio _____. Los espermatozoides se forman en los _____.

Selecciona tres hábitos saludables para el cuidado del aparato reproductor.

Andar con la cabeza erguida.

Lavarse diariamente las partes externas del aparato reproductor con un jabón neutro que no irrite.

Evitar los sonidos fuertes.

Cambiarse diariamente de ropa interior.

Mantener un horario fijo de sueño.

Evitar ropa demasiado ajustada.