



## EVALUACIÓN PRIMER QUIMESTRE - MATEMÁTICA

Nombre Completo:


Docente: Lcda. Diana Páez Q.

Grado: Segundo "A" EGB.


Fecha: martes, 11 enero de 2022.

1.- REALIZA, la descomposición de las siguientes cantidades. (2 Puntos)


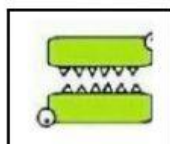
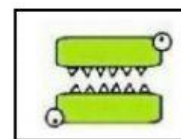


D	U	Descomposición	Número
1	4	10 + 4	14
1	3		

D	U	Descomposición	Número
1	8		
1	1		

2.- UBICA, el signo: mayor que >, menor que < o igual que = según corresponda. (2 Puntos)




13		15
12		10
16		16
20		10
14		14
18		19

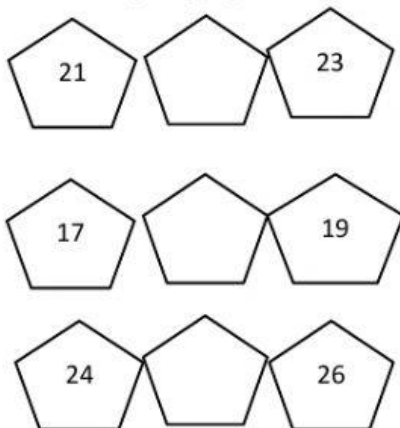


3.- ESCRIBE, el número que se encuentra como antecesor, intermedio y sucesor. (2 Puntos)


Antecesor



Intermedio



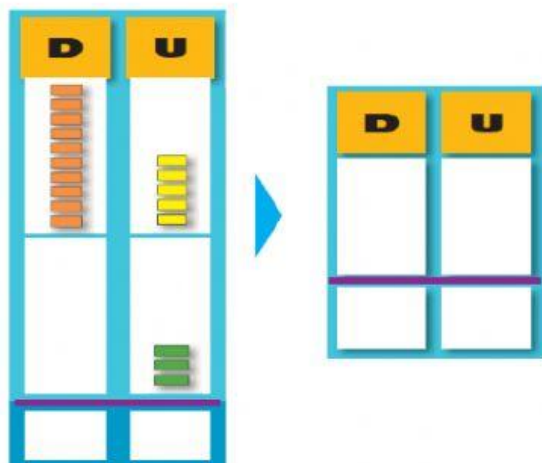
Sucesor



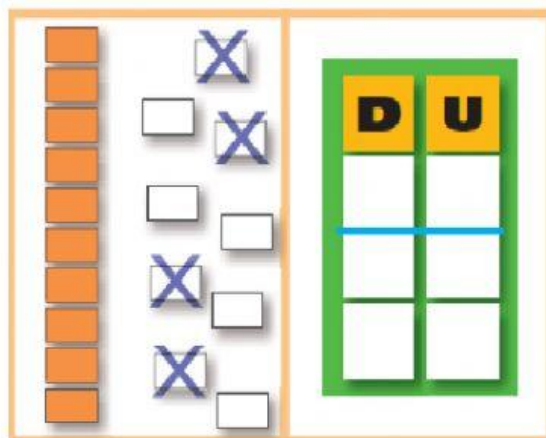


4.- ESCRIBE, en la tabla de posiciones las sumas y restas representadas con regletas. (2Puntos)

Suma





Resta



5.- COMPLETA. La secuencia en forma ascendente (2 puntos)



ELABORADO POR	REVISADO POR	APROBADO POR
DOCENTE(S): Lic. Diana Páez Q.	COORDINADORA DE SUBNIVEL: Lic. Diana Páez Q.	VICERRECTOR: Lic. Henry Laguna L.
Fecha:10-01-2022	Fecha: 12-01-2022	Fecha:
Firma: 	Firma: 	Firma: