



Họ và tên : .....

Lớp : A...


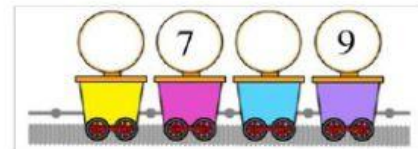
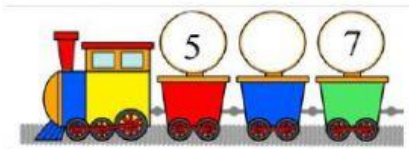
CÂU LẠC BỘ NGÔI NHÀ MƠ ƯỚC

PHIẾU SỐ 6

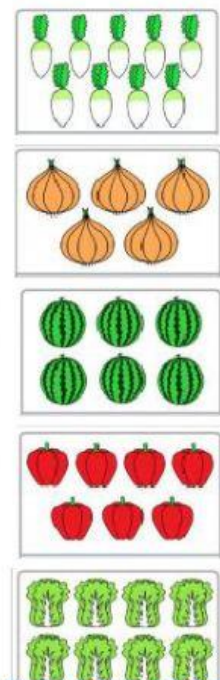
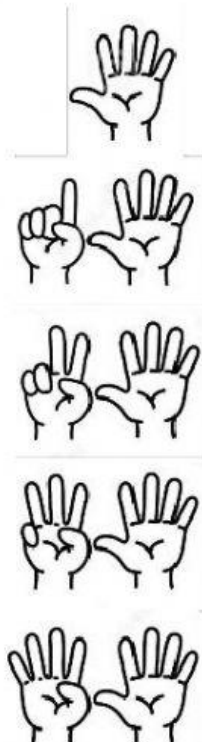
### Bài 1: Con hãy đếm số lượng mỗi hình và điền vào ô trống




### Bài 2: Số?



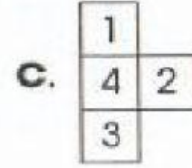
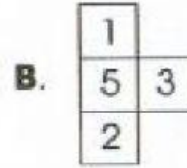
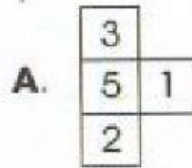
### Bài 3: Nối



### Bài 4: Chọn hình thích hợp cần điền vào ô trống



5	3	2	4	1
4	5	1	3	2
3	2	5		4
2	1	4		
1	4	3		5



### Bài 5: Con hãy kéo – thả các chữ cái vào ô trống giống với câu sau:

**Bà có cá cờ.**

**ờ B c à ó c á c .**

--	--	--	--	--	--	--	--	--