

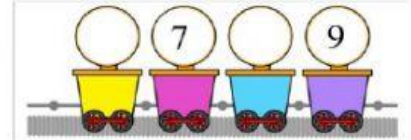
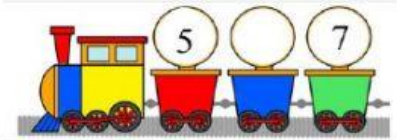


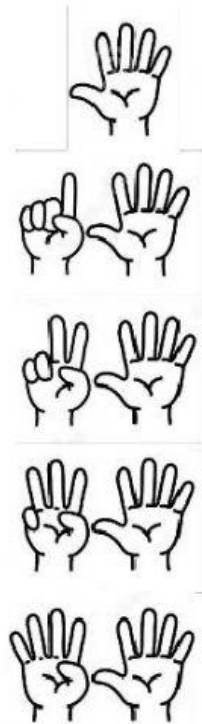
Bài 1: Con hãy đếm số lượng mỗi hình và điền vào ô trống



Bài 2: Số?



Bài 3: Nối




6

5


9

8

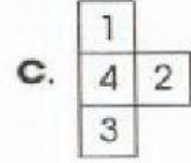
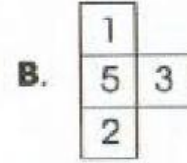
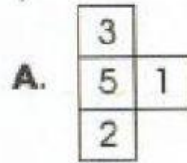
7




Bài 4: Chọn hình thích hợp cần điền vào ô trống



5	3	2	4	1
4	5	1	3	2
3	2	5		4
2	1	4		
1	4	3		5



Bài: Chọn loại quả có số lượng nhiều nhất



Bài 5: Con hãy kéo – thả các chữ cái vào ô trống giống với câu sau:

Bà có cá cờ.

ờ B c à ó c á c .

--	--	--	--	--	--	--	--	--