

Clases de Conjuntos

1. Arrastra cada significado en donde corresponde cada clase de conjunto.

No tiene elementos





Tiene un solo elemento

Sus elementos se pueden contar

No se puede indicar la
cantidad de elementos

Finito	Vacío	Unitario	Infinito

2. Escribe la cardinalidad y la clase a la que pertenece cada conjunto.

P = {  ,  ,  }  _____

R = {  }  _____

T = { } _____

A = { la arena del mar } _____

3. Escribe la letra dentro del paréntesis, según corresponda

Conjunto Vacío (V) Conjunto Unitario (U) Conjunto Finito (F) Conjunto Infinito (I)

Q = { Los meses del año } () **H** = { Los números impares } ()

N = { El satélite de la Tierra } () **S** = { La maestra es de español } ()

W = { letras del abecedario } () **K** = { Los días de la semana } ()

F = { 10, 20, 30, 40, 50 ... } () **Y** = { Las alumnas de segundo } ()