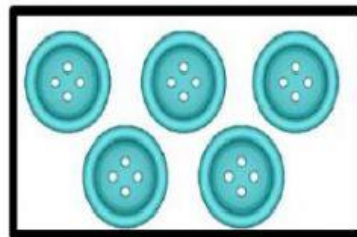
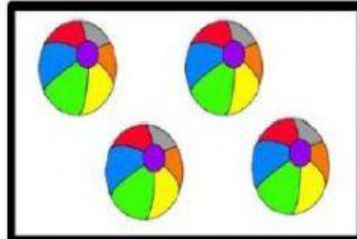

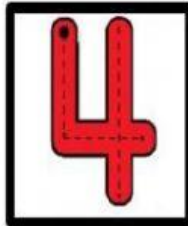
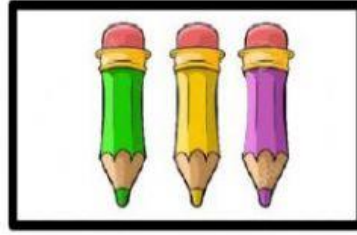


ÁMBITO DE RELACIONES LÓGICO-MATEMÁTICAS

1. Une con línea el numero con la cantidad de objetos que corresponde



MIRIAM MATUTE- DOCENTE- INICIAL 2 – PARALELO "B"

SECCIÓN MATUTINA

