



UNIDAD EDUCATIVA FISCOMISIONAL "Mariana De Jesús"

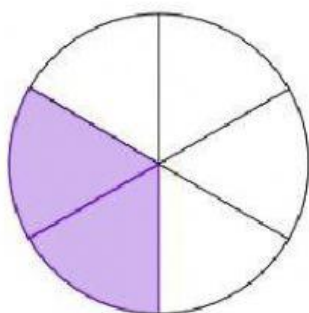
Construyendo la

pedagogía del amor a Cristo

Regentada por las Hijas de la Caridad
Cayambe – Ecuador
2021-2022

Nombre:	
Fecha:	
Curso:	

1.- Una con líneas las partes de la fracción.



$\frac{2}{6}$

Denominador

Numerador

2.- Escriba las fracciones que representa cada gráfica.




a)

—



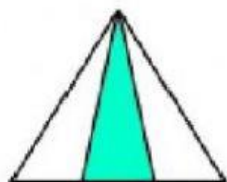
b)

—



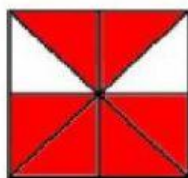
c)

—



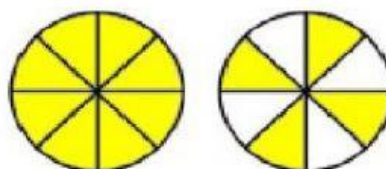
d)

—



e)

—



f)

—

Ejercicios
Resueltos.net