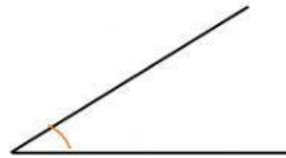



1.- Idatzi angelu hauen izenak:

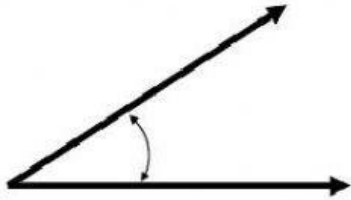


2.- Hutsuneak bete

- a) 90 gradu baino gutxiago neurtzen duen angelua da.
- b) 90 gradu baino gehiago neurtzen duen angelua da.
- c) 90 gradu neurtzen duen angelua da.

3.- Idatzi **E** egia bada edo **G** gezurra bada:

Angelu hau zorrotza bada, zenbat neurtu dezake?

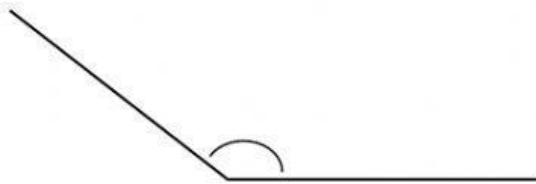


40

110

90

Angelu hau kamutsa bada, zenbat neurtu dezake?




90

160

50

Angelu hau zuzena bada, zenbat neurtu dezake?



120

60

90