

TEMA: MANTENIMIENTO PREVENTIVO Y CORRECTIVO

CONTESTA LO QUE SE TE INDICA.

1 OBSERVA CADA IMAGEN Y EXPLICA LO QUE REPRESENTA

# ACT#4

1.-



La imagen representa: \_\_\_\_\_

\_\_\_\_\_

\_\_\_\_\_

\_\_\_\_\_

2.-



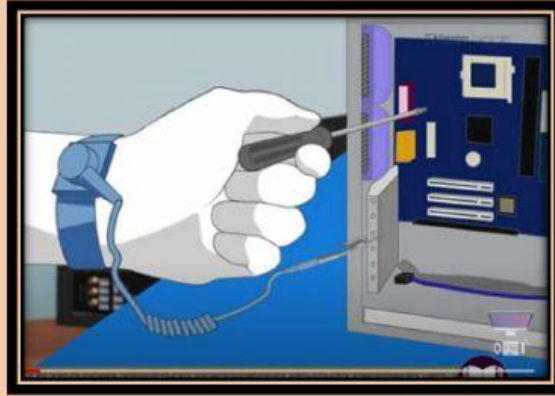
La imagen representa: \_\_\_\_\_

\_\_\_\_\_

\_\_\_\_\_

\_\_\_\_\_

3.-




La imagen representa: \_\_\_\_\_

\_\_\_\_\_

\_\_\_\_\_

4.-




La imagen representa: \_\_\_\_\_

\_\_\_\_\_

\_\_\_\_\_

5.-



La imagen representa: \_\_\_\_\_

\_\_\_\_\_

\_\_\_\_\_

6.-



La imagen representa: \_\_\_\_\_

\_\_\_\_\_

\_\_\_\_\_