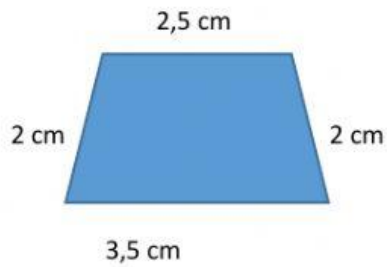


Calcula el perímetro de los siguientes polígonos:


(Recuerda que el perímetro de un polígono es la suma de todos sus lados)

El trapecio de lados:



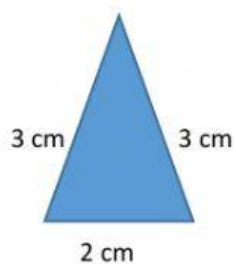
Su perímetro es: + + + =

El hexágono regular de 2 cm de lado:



Su perímetro es: =

El triángulo isósceles de lados:



Su perímetro es: =

El cuadrado de 3 cm de lado:



Su perímetro es: =