

GEOMETRÍA.



FICHA 20: CUERPOS REDONDOS.

1. Mira el vídeo sobre los cuerpos redondos.

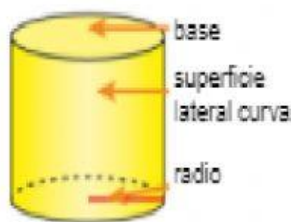


2. Cuerpos redondos.

Recuerda. Después, observa qué forma tiene cada objeto y contesta.

El cilindro, el cono y la esfera son cuerpos redondos. Tienen alguna superficie curva.

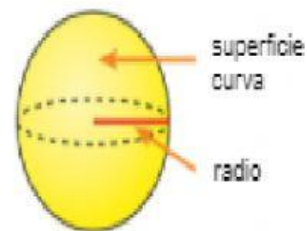
Cilindro



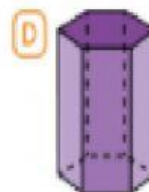
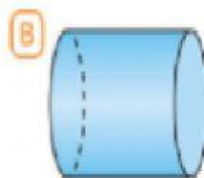
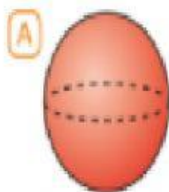
Cono



Esfera



- Los cilindros tienen dos bases, que son dos círculos iguales y paralelos, y una superficie lateral curva.
- Los conos tienen una base que es un círculo, un vértice y una superficie lateral curva.
- Las esferas tienen una superficie curva y no tienen base.



- ¿Qué objeto tiene forma de cilindro?

- ¿Cuál tiene forma de cono? ¿Y de esfera?

Cono → Esfera → .

3. Une con flechas cada cuerpo redondo con su desarrollo.

