




❖ Collega ciascun problema al dato mancante.




La maestra appende 8 disegni dei suoi alunni con delle puntine da disegno. Quante puntine da disegno occorrono alla maestra?

Il numero delle puntine per ogni disegno.

Il numero dei bambini invitati.

Il numero delle viti per ogni cassetto.



Il papà di Giovanni deve montare un mobile che ha 5 cassetti. Per farlo deve usare delle viti in ogni cassetto. Quante viti dovrà avvitare il papà di Giovanni?

Alla festa di compleanno di Ginevra la mamma distribuisce a ciascun bambino invitato 3 fette di torte diverse. Quante fette ha distribuito la mamma?

