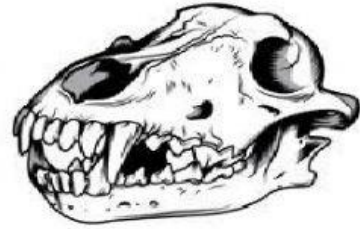
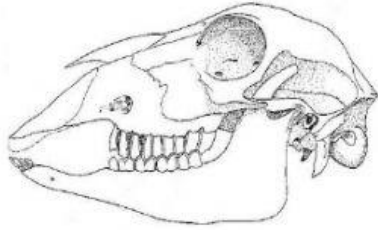


تدريبات علاجية رقم 2

الاسم /..... الصف / الثالث

الوحدة الأولى: الاسنان والأعضاء والعظام والعضلات

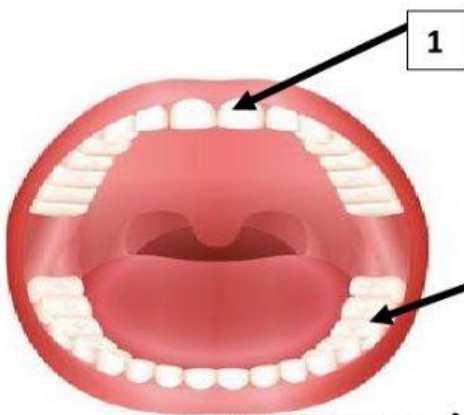
1. انظر إلى جماجم الحيوانات التالية وحدد نوع غذائها:



2. قارني بين أنياب الانسان والأسد ؟

الأسد	الانسان	من حيث
		الأنياب

6. ما وظيفة السن المشار إليه بالسهم في الشكل أدناه :



وظيفة السن رقم 1: _____

وظيفة السن رقم 2: _____

7. سمي الأعضاء الموضحة في الصورة التالية بشكل صحيح. مع سبب- وصيغ- من منها: