

NAME: _____

CLASS: _____

WORKSHEET

BERILAH KETERANGAN SATUAN PANJANG YANG BENAR!



Paman memotong kayu sepanjang 3 ...



Panjang tempat pensil adik 14 ...



Spidol kakak 12 ...



Lebar bahu paman 10 ...



Tinggi pintu 2 ...



Panjang buku tulis 12 ...



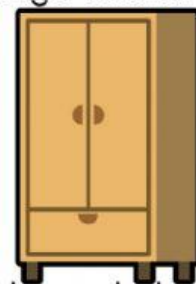
Panjang rautan 2 ...



Tinggi gambar bangun segitiga adalah 3 ...



Tinggi Edo adalah 194 ...



Ayah membeli almari dengan tinggi 1,8 ...

TULISLAH PANJANG BENDA DAN SATUAN YANG TEPAT PADA GAMBAR DI BAWAH INI!

1.



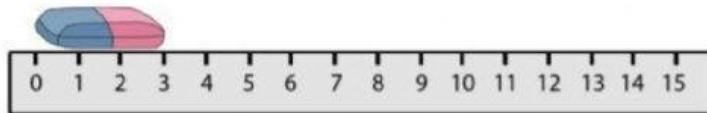
Panjang pensil adalah ...
(tuliskan dengan satuannya)

2.



Panjang balok kayu adalah ...
(tuliskan dengan satuannya)

3.



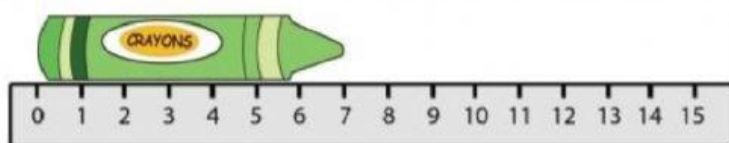
Panjang penghapus adalah ...
(tuliskan dengan satuannya)

4.



Panjang kain adalah ...
(tuliskan dengan satuannya)

5.



Panjang crayon adalah ...
(tuliskan dengan satuannya)