

# TEOREMA PHYTHAGORAS

Nama :

Kelas :

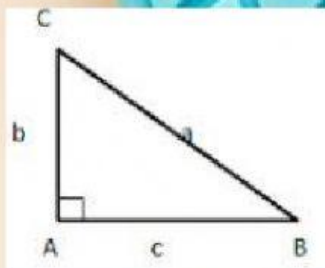
DISUSUN OLEH :

IRMA WAHYU RAHMAT DENI

A410190197

Kerjakan soal di bawah ini sesuai perintah!

Jodohkanlah dengan cara tarik garis ke jawaban yang benar!



Teorema Phytagoras berlaku  
pada bangun datar ...

Sisi Miring

Sisi terpanjang pada gambar  
di samping adalah...

Sisi Tegak

AB juga bisa disebut...

Segitiga Siku-Siku

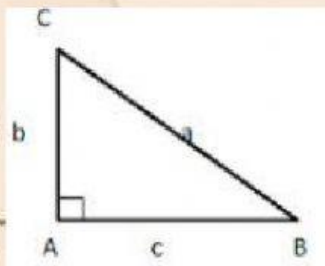
AC juga bisa disebut...

BC

BC juga bisa disebut...

Sisi Alas

Isilah jawaban yang benar di dalam kotak yang sudah tersedia!



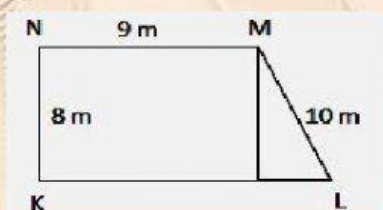
Rumus untuk menentukan sisi miring adalah

Rumus untuk menentukan sisi alas adalah

Rumus untuk menentukan sisi tegak adalah

Pilihlah jawaban yang paling tepat dengan cara klik pada option yang sudah tertera!

Perhatikan gambar di bawah ini!



Berdasarkan teorema  
phythagoras tentukan  
panjang KL !

A. 19 m

B. 18 m

C. 15 m

D. 9 m