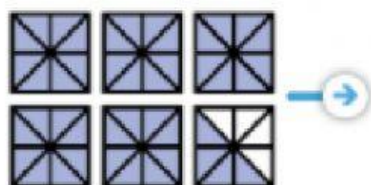
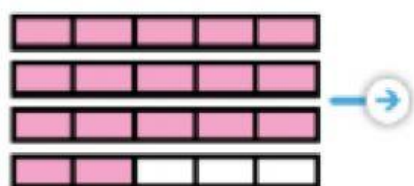
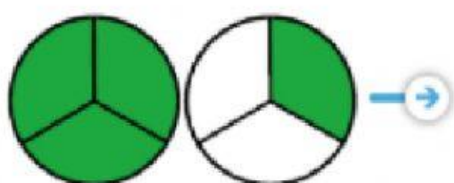


**1º Une el dibujo con la fracción que lo representa.**

**2º Une la fracción con el número mixto**

**Representación  
con dibujo**



**Representación  
con fracción**

$$\frac{44}{8} \rightarrow$$

$$\frac{4}{3} \rightarrow$$

$$\frac{17}{5} \rightarrow$$

**Representación  
con número mixto**

$$1\frac{1}{3}$$

$$5\frac{4}{8}$$

$$3\frac{2}{5}$$

