



LÍNEAS ADICIONALES DEBAJO DEL PENTAGRAMA


Escribe el nombre de las notas



1 _____ 2 _____ 3 _____ 4 _____ 5 _____ 6 _____ 7 _____ 8 _____ 9 _____ 10 _____



11 _____ 12 _____ 13 _____ 14 _____ 15 _____ 16 _____ 17 _____ 18 _____ 19 _____ 20 _____



21 _____ 22 _____ 23 _____ 24 _____ 25 _____ 26 _____ 27 _____ 28 _____ 29 _____ 30 _____