

Bài 9


	A	B	C	D	E
Hàng 1	1		2		3
Hàng 2		5		4	
Hàng 3	6		7		8
Hàng 4		10		9	
Hàng 5	11		12		13
Hàng 6		15		14	

(a) Số 30 thuộc hàng thứ mấy trong bảng trên?

(b) Số 41 thuộc hàng thứ mấy trong bảng trên?

Bài 10: Tìm các số còn thiếu trong tam giác Pascal sau:



Bài 11: Tìm các số còn thiếu trong dãy số sau:(6)


(a) 2, 2, 4, 8, 14, (), (), ...

(b) 2, 2, 4, 6, 10, (), (), ...


(c) 2, 4, 12, 48, (), (), ...

(d) 5, 3, 10, 4, 15, (), (), ...

Bài 12: Tìm các số còn thiếu trong tam giác số dưới đây:(7)



Bài 13: Cho tam giác số như hình dưới đây:(8)



(a) Có bao nhiêu số ở dòng thứ 6?

(b) Dòng thứ tám, số thứ hai tính từ trái sang là số mấy?

Bài 14: Tìm các số còn thiếu trong dãy số sau: (9)

(a) 1, 3, 6, 18, 21, (), (), ...

(b) 1, 3, 9, (), (), 243, ...

(c) 1, 5, 17, 53, (), 485, ...

(d) 2, 7, 27, 107, (), ...

Bài 15: Tìm các số còn thiếu trong dãy số sau: (10)

1, 2, 6, 15, 31, 56, (), (), ...