

ÔN TẬP HỌC KÌ 1

Thứ ... ngày ... tháng ... năm 2021



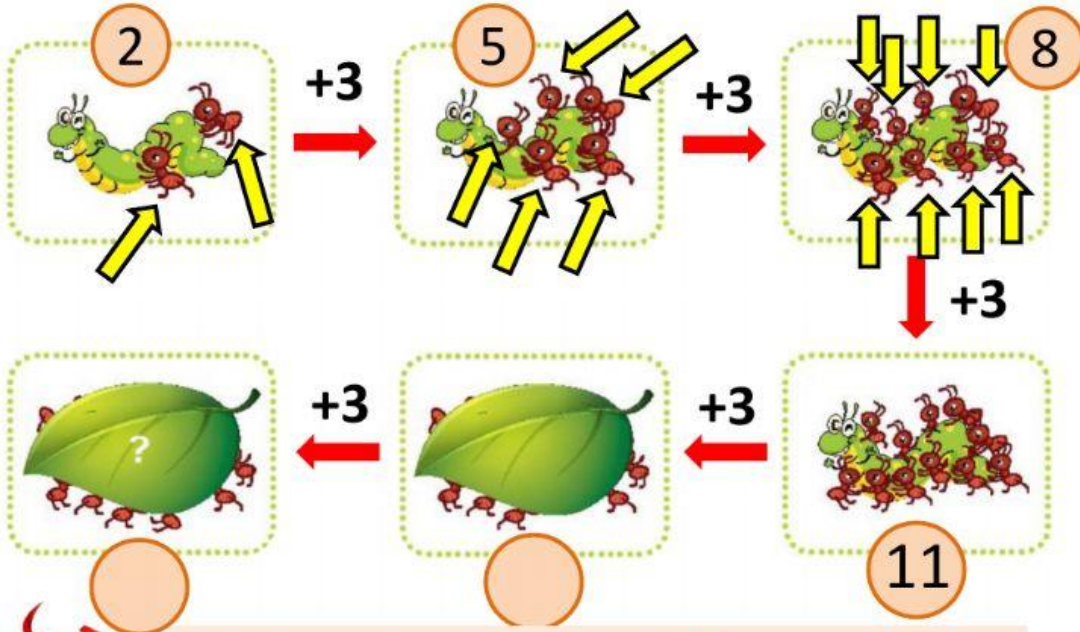
ÔN TẬP CÁC SỐ TRONG PHẠM VI 100



 LIVEWORKSHEETS

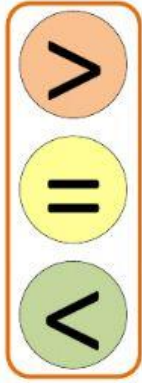
4

Hình cuối cùng có bao nhiêu con kiến?



Hình cuối cùng có ..?... con kiến.

5



?

34 ..?.. 30

9 ..?.. 22

51 ..?.. 28

75 ..?.. 57

So sánh - Điền dấu

$70 + 4$..?.. 74

$9 + 5$..?.. $5 + 9$

6

Kéo thả chú kiến Số nào lớn nhất, số nào bé nhất?

- Số lớn nhất:

- Số bé nhất:



So sánh các số trong phạm vi 100

- Số có **một chữ số bé** hơn số có **2 chữ số**.
- So sánh các số có hai chữ số: So sánh từ **trái sang phải**.
 - + Số nào có **số chục lớn hơn** thì số đó lớn hơn.
 - + Nếu **số chục bằng nhau**: số nào có **số đơn vị lớn hơn** thì số đó lớn hơn.

7 Kéo thả Đổi chỗ hai chiếc lá để các số được sắp xếp theo thứ tự:

a) Từ bé đến lớn.



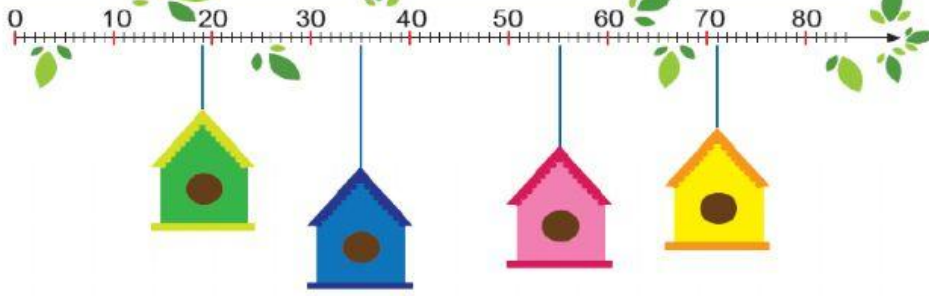
7

Kéo thả **Đổi chỗ** hai chiếc lá để các số được sắp xếp theo thứ tự:

b) Từ lớn đến bé.



8 Tìm nhà cho chim (mỗi con chim ở một nhà).



Số nhà của tớ
là số liền sau
của 70.



Số nhà của tớ
là số liền trước
của 20.



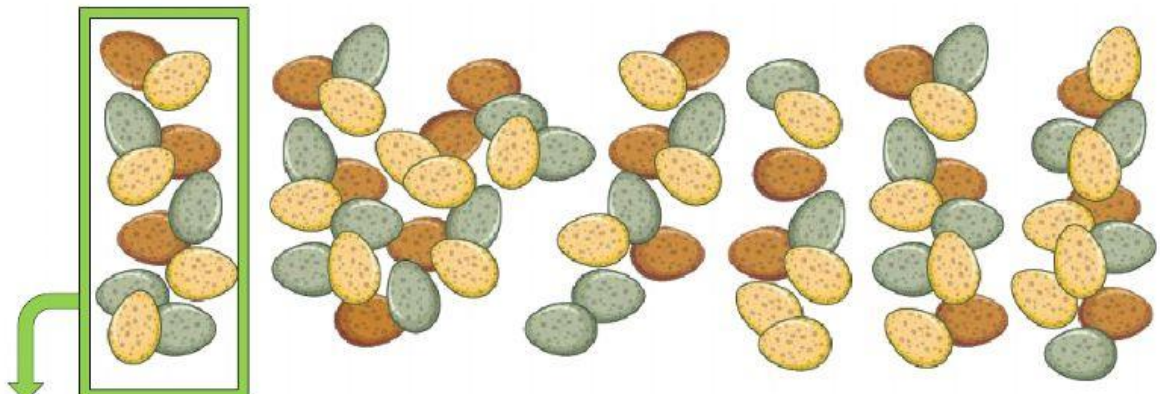
Số nhà của tớ
bé hơn số nhà
của bạn.



9 Có bao nhiêu quả trứng chim?

Ước lượng: Có khoảng ..?.. quả.

Đếm: Có ..?.. quả



Có khoảng 10 quả