

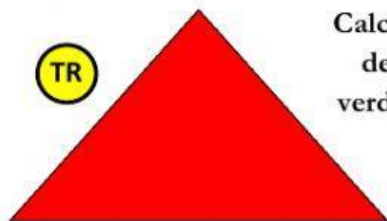
Áreas y porcentajes de figuras Planas

3

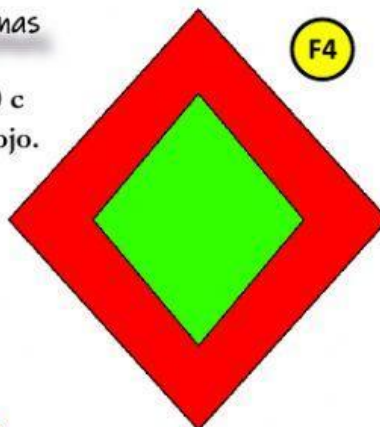
El área del triángulo rojo es de 90 c
El área del verde es un tercio del rojo.

Calcula el porcentaje
de la parte roja y
verde en cada figura

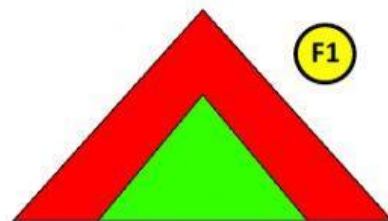
TR



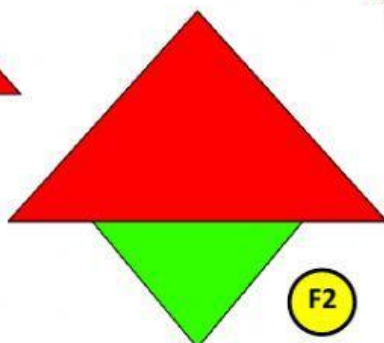
TV



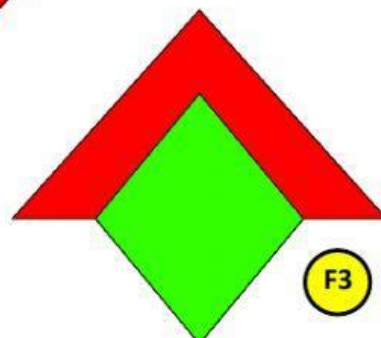
F4



F1



F2



F3

Total F1

Rojo

Verde

Total F2

Rojo

Verde

Total F3

Rojo

Verde

Total F4

Rojo

Verde