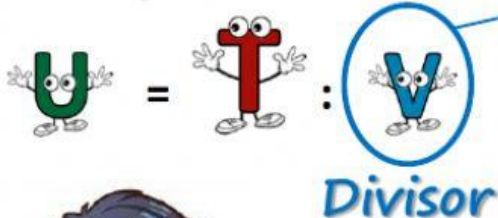


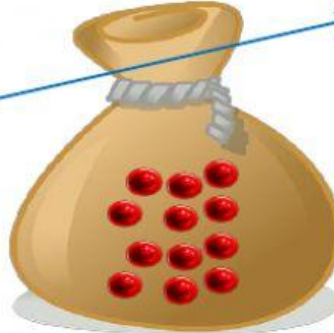
Divisores de 12



Repartir:



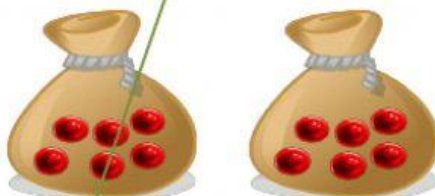
¿En cuántas bolsas puedo meter los caramelos y que todas las bolsas tengan el mismo número de caramelos?




Divisores de 12



¿De cuántos en cuántos puedo meter los caramelos en bolsas y que todas las bolsas tengan el mismo número de caramelos?



Agrupar:



Divisor