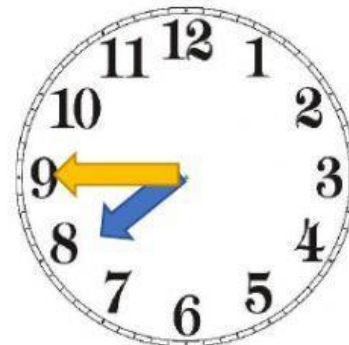
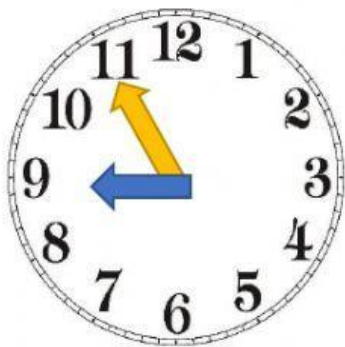



¿Qué hora es?



Escribe la hora de los relojes digitales:



Las tres y veinte de la mañana



Las dos y media de la tarde



Las once y cinco de la mañana



Las cinco y cuarto de la tarde

