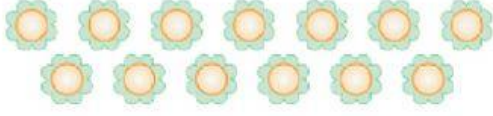


## ELDESİZ VE ELDELİ TOPLAMA İŞLEMİ

1.



Yukarıdaki çiçeklerin sayısından önce ve sonra gelen doğal sayıların toplamı kaçtır?

A. 24 B. 25 C. 26

2.

İşlemlerden hangisinin sonucu 59 sayısından küçüktür?

A.  $\begin{array}{r} 29 \\ + 37 \\ \hline \end{array}$  B.  $\begin{array}{r} 17 \\ + 48 \\ \hline \end{array}$  C.  $\begin{array}{r} 25 \\ + 26 \\ \hline \end{array}$

3.

26 Yandaki işlemin sonucunun onluklarına ve birliklerine ayrılmış hâli aşağıdakilerden hangisidir?

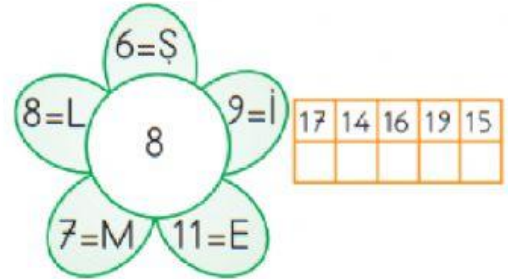
A. 5 onluk, 7 birlik  
B. 7 onluk, 5 birlik  
C. 4 onluk, 7 birlik

4.

İşlemlerden hangisinin sonucu 70'e daha yakındır?

A.  $29 + 35$   
B.  $46 + 27$   
C.  $56 + 33$

5.



Çiçeğin yaprağında yazılan sayıları ortadaki sayı ile topladığımızda şifremiz çözülecektir.

Buna göre şifremiz aşağıdakilerden hangisidir?

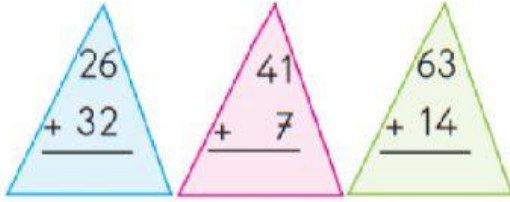
A. Ş E M İ L  
B. İ Ş L E M  
C. L E M İ Ş

6.  $29 + 16 = \star$   
 $17 + 28 = \blacksquare$   
 $\star + \blacksquare = ?$

Yukarıda verilen işlemin sonucu kaçtır?

- A. 70    B. 80    C. 90

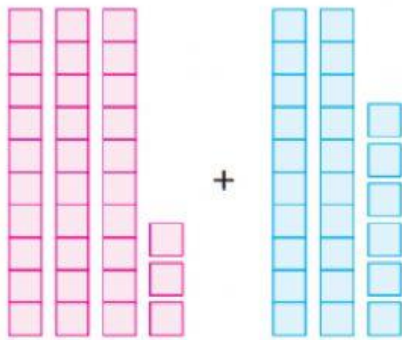
7.



Yukarıdaki işlemlerden hangisinin sonucu en büyüktür?

- A.     B.     C. 

8.



Yukarıda onluk taban bloklarıyla gösterilen sayıların toplamı sonucunda oluşan sayının onlar basamağında hangi rakam bulunur?







- A. 9    B. 6    C. 5

9. Yandaki işlemin sonucunun onluk, birlik şeklinde gösterimi  $\begin{array}{r} 46 \\ + 28 \\ \hline \end{array}$  aşağıdakilerden hangisidir?

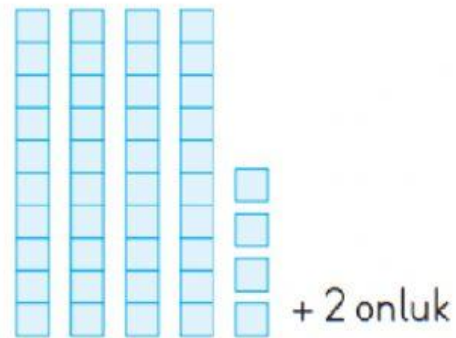
- A. 6 onluk, 4 birlik  
 B. 7 onluk, 4 birlik  
 C. 4 onluk, 7 birlik

10. Yanda verilen renkli toplarda yazılı sayılardan hangi ikisinin toplamı 63'tür?



- A.  +   
 B.  +   
 C.  + 

11.



Yukarıdaki işlemin sonucu kaçtır?

- A. 54    B. 64    C. 74