

**Profesora:** Lcda. Elizabeth Sornoza T.













**Grado:** Quinto

**Nombre:** \_\_\_\_\_ **Fecha:** Diciembre \_\_\_\_\_, 2021

**Materia:** Computación

**SEGUNDO QUIMESTRE – 1er Parcial**

Identifica si pertenecen a **HARDWARE** o **SOFTWARE**.

		
<input type="text"/>	<input type="text"/>	<input type="text"/>
		
<input type="text"/>	<input type="text"/>	<input type="text"/>
		
<input type="text"/>	<input type="text"/>	<input type="text"/>
		
<input type="text"/>	<input type="text"/>	<input type="text"/>

Identifica el nombre de los dispositivos correctamente.



impresora

escáner



lápiz óptico

micrófono



escáner

sensor

digital



sensor

lector de código

digital

de barras



impresora

plotter

Completa el siguiente concepto.

Los dispositivos de  convierten la información que sale de una computadora en imágenes en pantalla, impresiones u otras formas. Entre los dispositivos de salida más populares hoy en día se encuentran:



Responde si pertenecen al grupo de dispositivos de entrada o de salida las siguientes imágenes.



Dispositivos de entrada

Dispositivos de salida



Dispositivos de entrada

Dispositivos de salida



Dispositivos de entrada

Dispositivos de salida



Dispositivos de entrada

Dispositivos de salida



Dispositivos de entrada

Dispositivos de salida



Dispositivos de entrada

Dispositivos de salida

Escribe el nombre de los siguientes elementos, utiliza el banco de palabras.

PARLANTES - MONITOR - VENTILADOR -  
MEMORIA RAM - PLOTTER - DISCO DURO - PROYECTOR

