

REPASO 1º TRIMESTRE

OPERACIONES COMBINADAS

$$7 - 7 + 8 : 4 + 6 =$$

$$8 : 2 - 3 + 4 \times 5 =$$

POTENCIAS

$$9^4 =$$

$$7^0 =$$

$$1^7 =$$

$$0^8 =$$

POTENCIAS BASE 10

$$10^4 =$$

$$10^6 =$$

RAÍZ CUADRADA

$$\text{Raíz cuadrada de } 49 =$$

$$\text{Raíz cuadrada de } 81 =$$

NUMEROS ROMANOS

DCCV =

379=

DIV=

99=

XLI =

450=

DIVISIBILIDAD

MÚLTIPLOS. Une la división según sea su resultado entero o exacto.

12: 3 =

ENTERA

14: 3 =

EXACTA

Razona tu respuesta

DIVISORES, escribe SI o NO

¿Es 6 divisor de 46?

¿Es 24 divisor de 456?

CRITERIOS DE DIVISIBILIDAD.

Completa la frase

- Un número es divisible entre 2 si acaba en
- Un número es divisible entre 3 si la de sus cifras es múltiplo de
- Un número es divisible de 9 si la de sus cifras es múltiplo de
- Un número es divisible entre 5 si acaba en o
- Un número es divisible por 10 si su última cifra acaba en

¿12 es divisible entre 4?

Razona tu respuesta

¿16 es divisible entre 5?

Razona tu respuesta

¿40 es múltiplo de 10?

Razona tu respuesta

¿30 es múltiplo de 20?

Razona tu respuesta

Números primos y compuestos

Escribe SI o NO

¿2 es un número primo?

¿4 es un número compuesto?

N. ENTEROS (POSITIVOS Y NEGATIVOS)

María y Juan han utilizado el ascensor, María estaba en el primer ascensor (+1) y sube dos pisos y Juan estaba en el segundo sótano (-2) y sube 4 pisos.

¿A qué piso llega cada una?


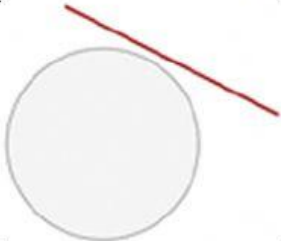

María

Juan

CIRCUNFERENCIA

En una circunferencia de 5 cm de radio, ¿cuál es su longitud?

Une con flechas

		Exterior
		Secante
		Tangente