

Institución Educativa Particular  Calidad - Seriedad - Eficiencia	EXAMEN BIMESTRAL – 1º GRADO
	CURSO: Razonamiento Matemático.
	FECHA: 14 - 12 - 21

Nombres:

Apellidos:

1. Observa las imágenes y escribe la ubicación de lo indicado.



José Franco Roxana

*Franco está a la _____ de Roxana.

*José está a la _____ de Franco.

*Franco está _____ José y Roxana.



Carlos Karina César

* _____ está entre Carlos y César.

* César está a la _____ de Karina.

* Carlos está al lado _____ de Karina.

2. Observa y PONER la figura que sigue.

a)



b)

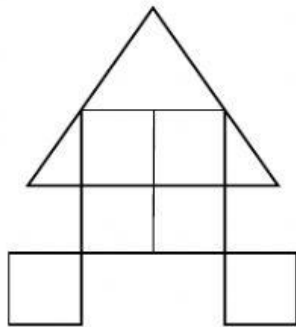


3.- Resuelve las operaciones, según el valor de cada letra.

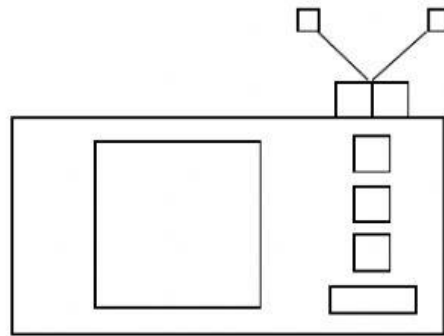
A = 89	C = 36	E = 12	H = 67
B = 17	D = 55	F = 100	M = 45

- a) A - C =
- b) F + H =
- c) M - E =
- d) D + B =
- e) F + F =

4. ¿Cuántos cuadrados hay?



Rpta. _____



Rpta. _____

5. Escribe V ó F.

- a) 180 es menor que 181. ☐
- b) 9 centenas equivale a 900 unidades. ☐
- c) 490 es mayor que 491. ☐
- d) 679 es menor que 680. ☐
- e) 760 es menor que 670. ☐

6. Resuelve las ecuaciones.

$$X + 65 = 99$$

$$X - 43 = 79$$

7. Resuelve.

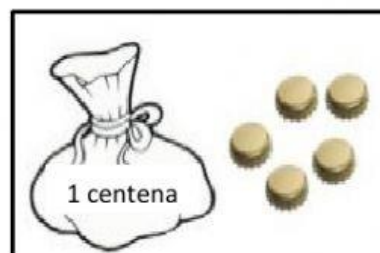
	4	2	
2			3
1			
	3	1	

4			
	2	3	
	1		
			2

8. Lee, piense y encierra la respuesta.


Manuel trajo sus chapitas en una bolsa y algunas quedaron sueltas.
Observa la imagen.

¿Cuántas chapitas en total trajo Joaquín?



- a) 150
- b) 105
- c) 150

Antonio ha comprado 3 centenas, 9 decenas y 9 unidades de ladrillos.
¿Cuántos ladrillos le falta para que tenga 4 centenas de ladrillos?



- a) 100
- b) 10
- c) 1