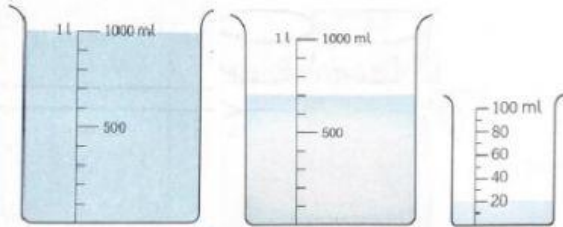


ชื่อ-สกุล..... ชั้น..... เลขที่.....

เรื่อง การวัดปริมาตรและความจุเป็นลิตรและมิลลิลิตร

คำชี้แจง อ่านปริมาตรเป็นลิตรและมิลลิลิตร และเติมคำตอบให้ถูกต้อง

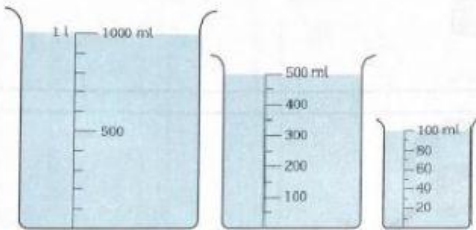
Ex.



1 ลิตร = 1,000 มิลลิลิตร

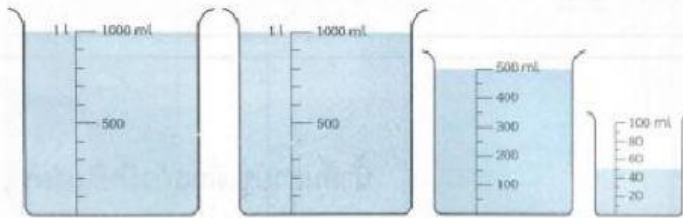
ปริมาตร.....1 ลิตร 720 มิลลิลิตร.....

1)



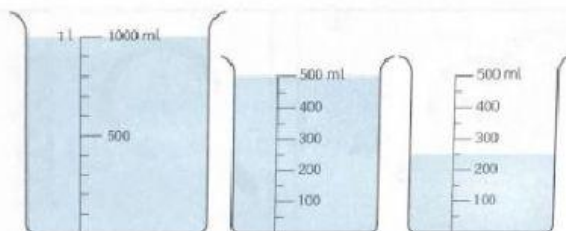
ปริมาตร ลิตร มิลลิลิตร

2)



ปริมาตร ลิตร มิลลิลิตร

3)



ปริมาตร

4)

ปริมาณ
.....

5)

น้ำฝรั่งมีปริมาณ
.....

6)

น้ำมันเต็มแกลลอนมีปริมาณ
.....
แกลลอนนี้มีความจุ

7)

น้ำเต็มขันมีปริมาณ
.....
ขันนี้มีความจุ