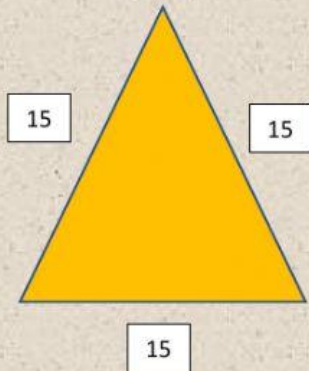


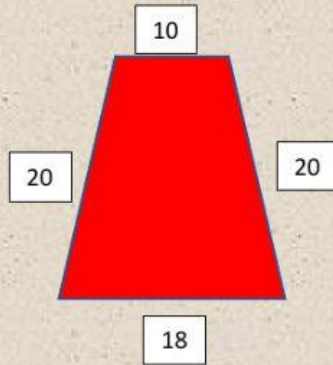
PERÍMETRO Y ÁREA

Completa los ejercicios, luego selecciona la respuesta correcta.

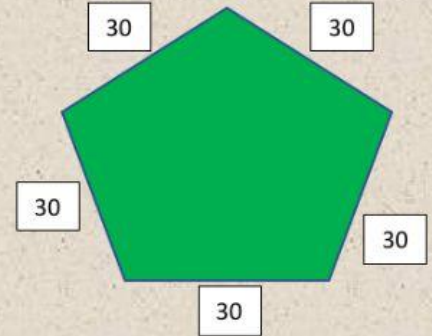
Selecciona el perímetro de las siguientes figuras.



Triángulo
45
55
95

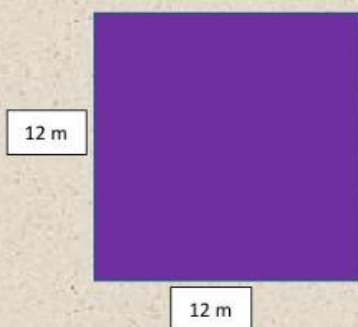


Trapezio
86
68
98

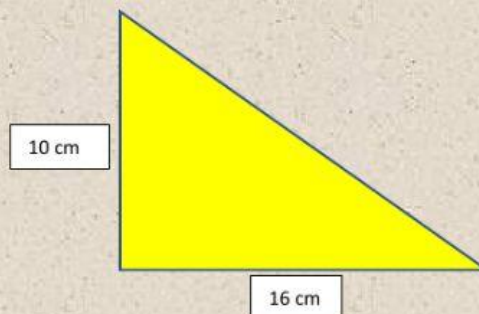


Pentágono
250
175
150

Selecciona el área de las siguientes figuras.



Cuadrado
24 m^2
144 m^2
144 m




Triángulo
84 cm^2
80 cm
80 cm^2



Rectángulo
72 m^2
72 m
70 m^2

Resuelve los problemas matemáticos y luego selecciona la respuesta correcta.

Don Carlos plantará en su terreno árboles de aguacate, cada uno de ellos tiene un metro cuadrado de espacio para crecer, si su terreno tiene una forma rectangular con las medidas de 10 metros de ancho por 15 metros de largo. ¿Cuántos árboles podrá plantar en su terreno?




150 árboles

15 árboles

250 árboles

Javier quiere poner una cerca en el jardín, el jardín tiene forma cuadrada, si cada uno de sus lados mide 3 metros, ¿cuántos metros tiene de perímetro el jardín?



10 metros

15 metros

12 metros