

Valores, compases y líneas divisorias

I. Cuenta los valores, y determina las equivalencias en cada compás

Escribe tus respuestas con un número entero.



¿De cuantos tiempos es este compás?



¿Cuántas negras equivalen a estas figuras?



Cuántas corcheas equivalen a estas figuras?



¿Cuántas negras podrían caber en este espacio?



¿Cuántos compases de 2 tiempos caben en esta línea?

¿Cuántas líneas divisorias deberían dividir los compases?



¿Cuántas blancas con puntillo cabrían en esta línea?

¿Cuántas líneas divisorias deben ser trazadas para un compás de 3/4?

II. Determina el valor de los compases y completa el numerador en cada uno

7




4

8



4

9




4

10




4

11



4

12



4



Escribe el denominador correcto para las siguientes figuras:

