

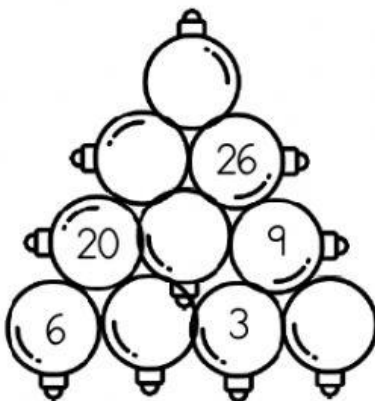
FICHA 3

Jueves 16 de diciembre de 2021

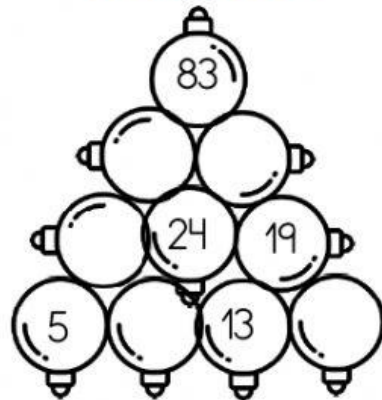
- Ahora tienes que resolver estas pirámides numéricas navideñas. El resultado de la bola de arriba es la suma de las dos bolas de abajo. Fíjate en el ejemplo:



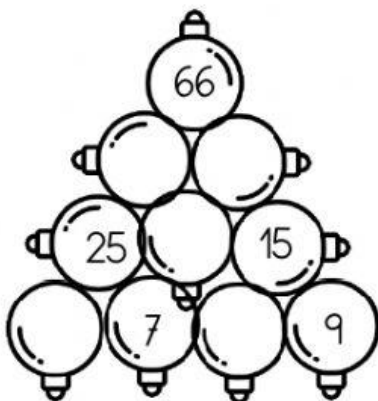
ADORNOS 1



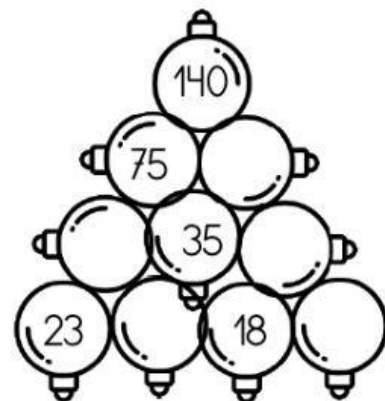
ADORNOS 2



ADORNOS 3



ADORNOS 4



@elaulamagicadexandra