



AUTOEVALUACIÓN DEL BLOQUE 2

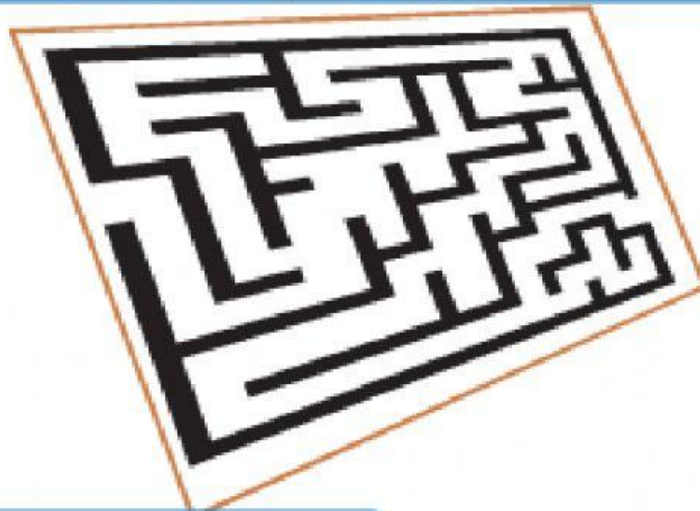
NOMBRE

Nº

8

Encuentra y marca con color el trayecto para pasar el laberinto

8.1



9

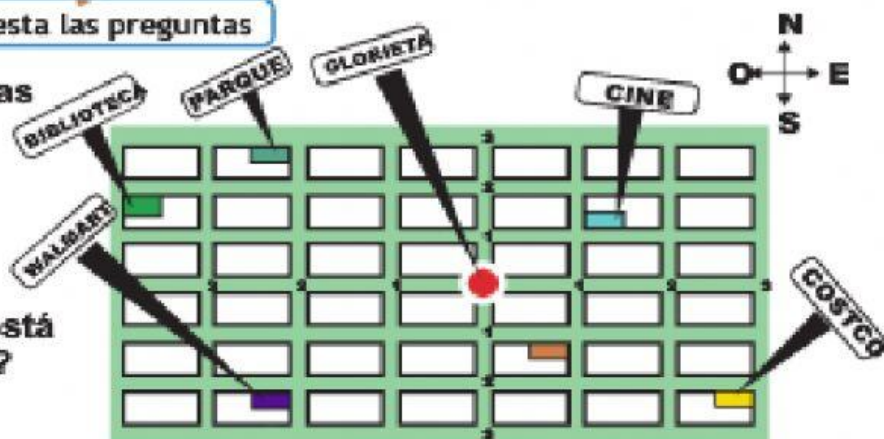
Observa el croquis y contesta las preguntas

9.1

Si de la glorieta caminas
2 cuadras al oeste
y 2 al sur
¿A qué lugar llegas?

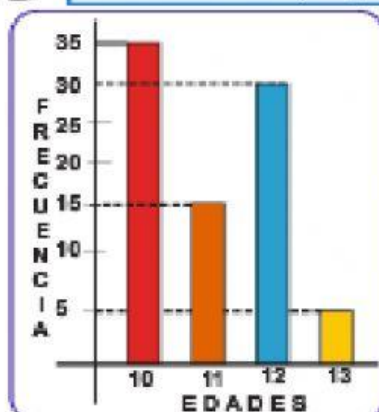
9.2

¿Qué lugar es el que está
más al norte de todos?



10

Contestar las preguntas después de analizar la gráfica.



En un club de natación se inscribieron los siguientes
alumnos, los cuales fueron separados por edades.

10.1

¿Cuántos niños de 13 años hay?.....

10.2

¿Cuántos tienen más de 10, pero menos de 13?...

10.3

¿Cuántos niños son en total?



AUTOEVALUACIÓN DEL BLOQUE 2

NOMBRE

Nº



Encuentra la longitud del gusanito A y del gusanito B

11.1

Gusanito A

Gusanito A



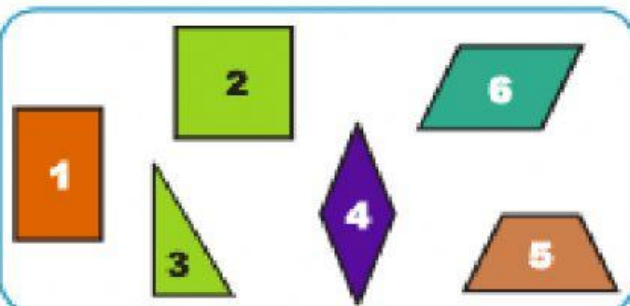
11.2

Gusanito B

Gusanito B



Relaciona las figuras con su nombre



12.1

☐

Triángulo

12.4

☐

Romboide

12.2

☐

Rombo

12.5

☐

Trapecio

12.3

☐

Cuadrado

12.6

☐


Rectángulo



Con una regla mide la longitud de las figuras A y B

13.1

Figura A



13.2

Figura B

