

EXAMEN FINAL DE MATEMÁTICA

NOMBRE Y APELLIDO: _____

1. NOMBRA A CADA UNA DE LAS SIGUIENTES FIGURAS. (RECTA, PUNTO, SEGMENTO O PLANO)




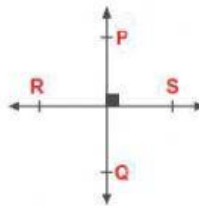


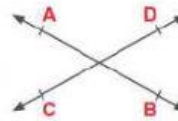




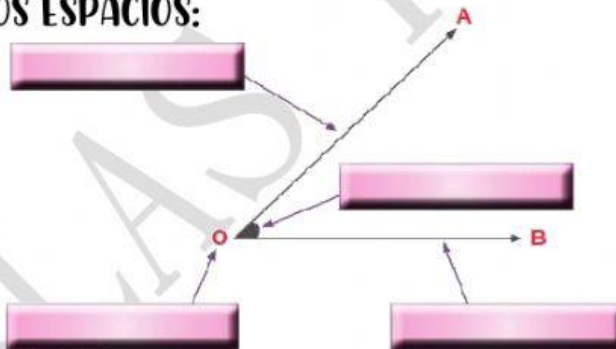
2. ESCRIBE EL NOMBRE DE LAS RECTAS SEGÚN SU CLASE (PARALELA, PERPENDICULAR U OBLICUA)








3. COMPLETA LOS ESPACIOS:

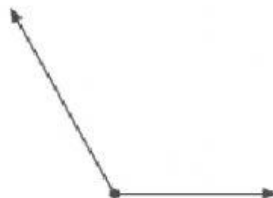


4. ESCRIBE, A QUÉ CLASE DE ÁNGULO CORRESPONDEN SEGÚN SU MEDIDA.



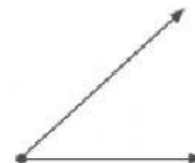
Mide : 90°

Ángulo : _____



Mide : 120°

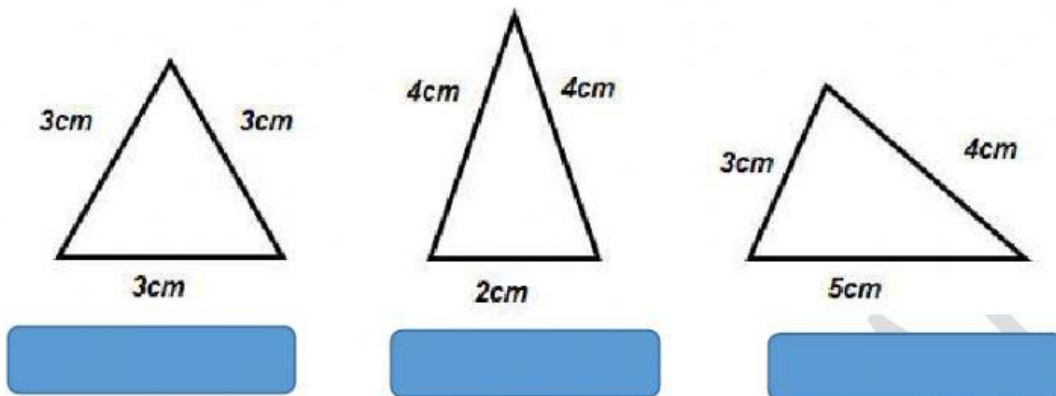
Ángulo : _____



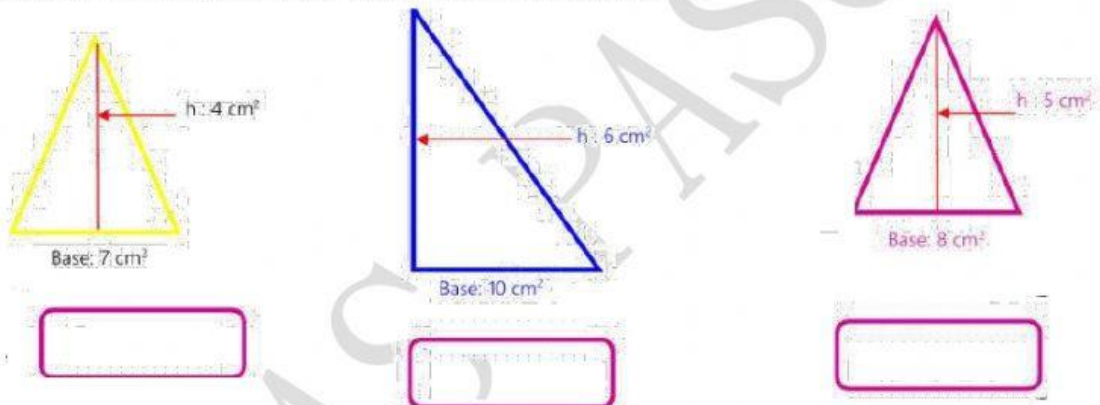
Mide : 60°

Ángulo : _____

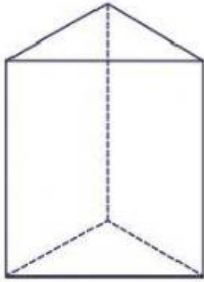
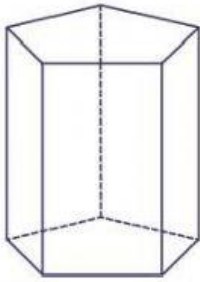
5. ESCRIBE EL NOMBRE DE CADA TRIÁNGULO SEGÚN LA MEDIDA DE SUS LADOS.



6. CALCULA EL ÁREA DE LOS SIGUIENTES TRIÁNGULOS:



8. COMPLETA EL CUADRO

	
Bases :	Bases :
Vértices:	Vértices:
Aristas :	Aristas :
Caras :	Caras :