

EVALUACIÓN DE MATEMÁTICA



Nombres y Apellido: _____

Grado: "2"

Sección: "A"

Nivel: Primaria

Fecha: 15/ 12/ 2021

1. **Relaciona** con una línea:

¿Qué fruta traerá cada uno?, una para dar la respuesta.

27×6



58×8



99×5



2. Lee el siguiente problema, resuelve en una hoja aparte y **selecciona la respuesta correcta**:

El papá de Sofi colecciona relojes. Tenía 12 relojes, luego le regalaron 4 pero perdió 2. ¿Cuántos relojes tiene ahora su papá?



- a) 12 relojes
- b) 10 relojes
- c) 14 relojes
- d) 11 relojes

3. **Selecciona** la respuesta correcta:

9	4	6

- a) 13
- b) 14
- c) 15
- d) 16

4. Lee el siguiente problema, resuelve en una hoja aparte y **selecciona la respuesta correcta**:

Sofi tiene 60 muñecas recortables, pero solo ha recortado la tercera parte de ellas. ¿Cuántas muñecas le falta recortar?



- a) 21 muñecas
- b) 20 muñecas
- c) 13 muñecas
- d) 18 muñecas

5. Lee el siguiente problema, resuelve en una hoja aparte y **selecciona la respuesta correcta**:

Un zoológico tiene la misma cantidad de cada tipo de animales: anfibios, peces, mamíferos, aves y reptiles. Si hay 890 animales en total, ¿cuántos animales tiene de cada tipo?



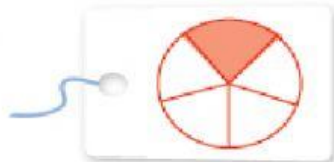
- a) 148 animales de cada tipo.
- b) 158 animales de cada tipo.
- c) 178 animales de cada tipo.
- d) 128 animales de cada tipo.



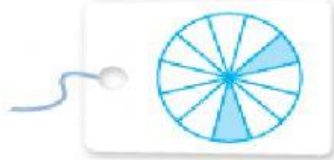
6. **Relaciona** con una línea

¿Qué fracción de cada círculo está sombreada? **Relaciona.**

$\frac{3}{9}$



$\frac{2}{12}$



$\frac{1}{5}$



7. Lee el siguiente problema, resuelve en una hoja aparte y **selecciona la respuesta correcta:**



Leo compró un paquete con $\frac{1}{4}$ kg de café y otro de $\frac{1}{2}$ kg para su mamá. Sofi compró un paquete de $\frac{3}{4}$. ¿Quién compró más? ¿Por qué?



- a) Sofi
- b) Leo
- c) Ambos compraron igual
- d) La mamá

8. ¿Cuál es la fracción que contiene cada recipiente?

Selecciona la respuesta correcta:



9. **Arrastra** los cartelitos de las horas en el reloj donde corresponda.



3:50

11:10

1:30

10. **Completa:**

Un año tiene	meses
Cada mes tiene	semanas
Cada mes puede tener	días
Cada semana tiene	

*Todo lo puedo en cristo que me fortalece.
Filipenses.4:13*