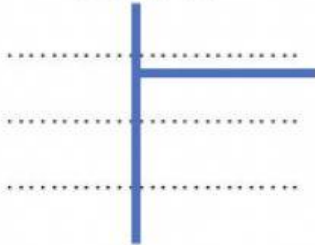
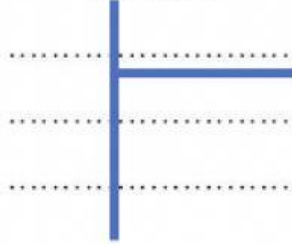


1. Đặt tính rồi tính :

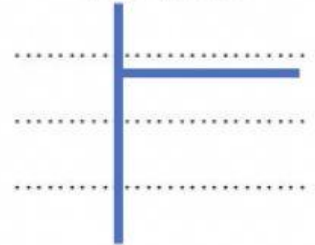
$$864 : 2,4$$



$$9 : 0,25$$



$$108 : 22,5$$



2. Tìm  $x$  :

a)  $x \times 4,5 = 72$

.....  
 .....

b)  $15 : x = 0,85 + 0,35$

.....  
 .....  
 .....

3. Một mảnh đất hình chữ nhật có chiều rộng 7,2m và có diện tích bằng diện tích một cái sân hình vuông cạnh 12m. Tính chiều dài của mảnh đất hình chữ nhật đó.

*Bài giải*

.....  
 .....  
 .....  
 .....

**Đáp số:**

**m**