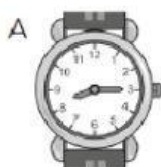


## EL TIEMPO Y EL DINERO

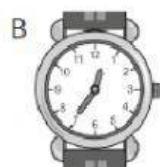
1 Completa.

Diez de la mañana	
Cinco de la madrugada	
	9 a.m. = 9:00 h
Una de la tarde	
	5 p.m. = 17:00 h
Nueve de la noche	
Cuatro de la tarde	

2 Escribe con letra la hora que marcan estos relojes:




.....  
.....



.....  
.....

3 Dibuja en estos relojes las 7 y 10 minutos de la tarde:

Formato 12 horas



Formato 24 horas



4 ¿Cuánto dinero hay en cada caso? ¿Dónde hay más?



.....



.....

.....

## EL TIEMPO Y EL DINERO

5 Completa la tabla.

150 céntimos	1 € 50 cts.
170 céntimos	
105 céntimos	
250 céntimos	
308 céntimos	


6 Rafael tenía 3 € y ha comprado un bolígrafo que le ha costado 1 € 60 cts. ¿Cuánto le queda?

.....

7 Un reloj señala las ocho y veinte. ¿Qué tiempo falta para las diez?  
Exprésalo en horas y minutos.

.....

8 Amaya lleva en su monedero cinco monedas que suman dos euros.  
Dibújalas sabiendo que solo hay dos iguales.



## EL TIEMPO Y EL DINERO

9 Contesta.

a) ¿Cuántas monedas de 2 cts. necesitas para juntar 50 cts.? .....

b) ¿Cuántas monedas de 5 cts. necesitas para juntar 80 cts.? .....

c) ¿Cuántas monedas de 10 cts. necesitas para juntar 1 € 20 cts.? .....

10 Expresa en minutos.

Un cuarto de hora	Media hora	1 hora y tres cuartos