



PERÚ

Ministerio  
de Educación


Viceministerio de  
Gestión Institucional

Dirección Regional  
de Educación  
de Lima Metropolitana

Oficina de Gestión  
Pedagógica de Educación  
Básica y Técnico Productiva

# EVALUACIÓN DE SALIDA

## 2021


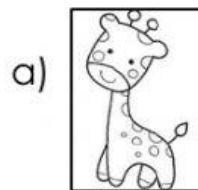



# MATEMÁTICA

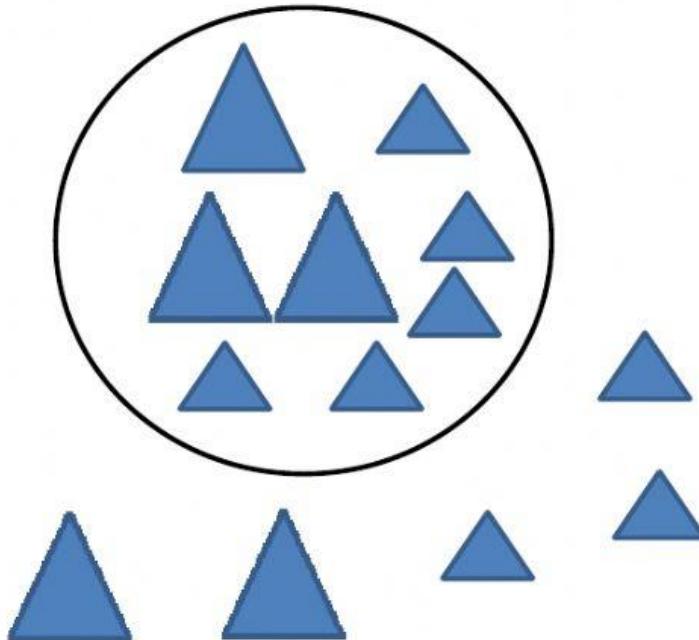
## Primer Grado

# EDUCACIÓN PRIMARIA

1. Observa las imágenes y responde, ¿qué animal se encuentra detrás del elefante?



2. ¿Cuántos triángulos pequeños están dentro del círculo?




a) 5

b) 3

c) 8

3. Observa la imagen y responde, ¿cuántos animales hay dentro del recuadro?

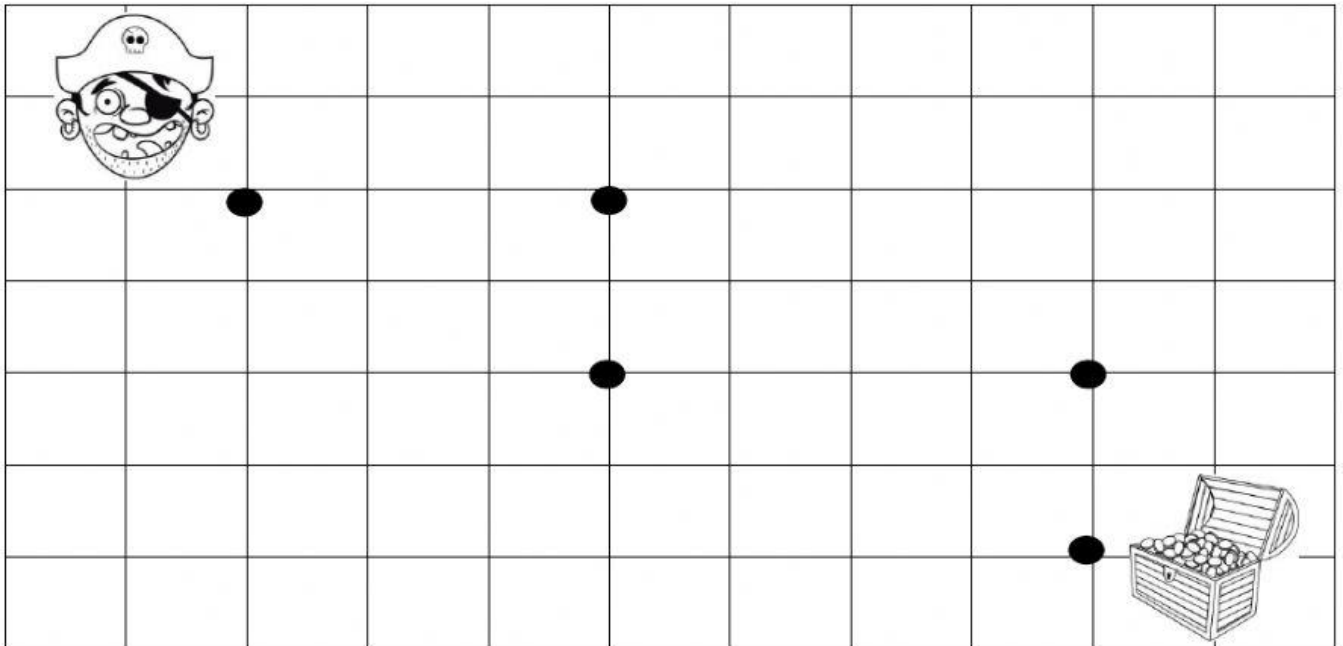


a) 20

b) 17

c) 21

4. Une los puntos e indica: ¿Qué recorrido debe seguir el pirata para llegar al tesoro?



a) 3 → 2 ↑ 4 → 1 ↓

b) 3 → 2 ↓ 4 → 2 ↓

c) 3 → 2 ↓ 3 → 1 ↑

5. Jorge compró 18 tarros de leche para su cafetería. El día lunes usó 8 tarros, ¿cuántos tarros de leche le quedaron?

a) 26 tarros.


b) 10 tarros.

c) 16 tarros.




6. Observa la imagen y responde, ¿cuál de los estudiantes está en quinto lugar?

Pepe      Milena      Manolo      Susan      Carlos



- a) Pepe.                                      b) Manolo.                                      c) Carlos.
7. Alicia tenía 15 muñecas de trapo y su mamá le compra 4 muñecas más, ¿cuántas muñecas tiene ahora Alicia?
- a) 11 muñecas de trapo.
- b) 5 muñecas de trapo.
- c) 19 muñecas de trapo.

8. ¿Qué número continúa en la siguiente serie?



a) 19

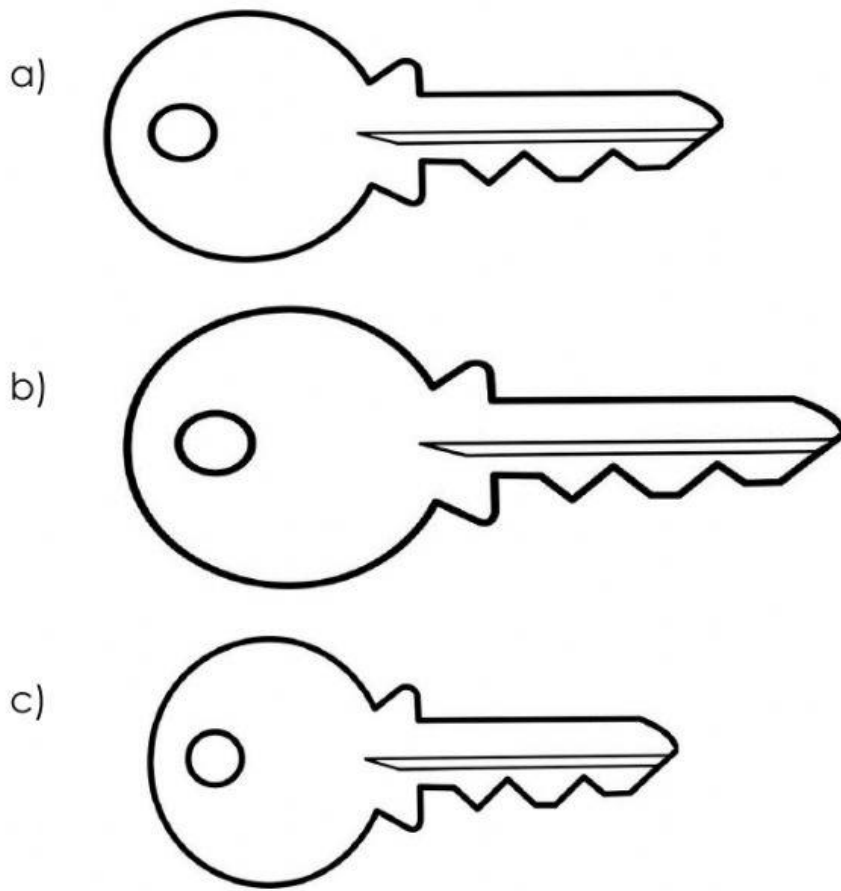
b) 16

c) 20

9. ¿Qué figuras geométricas continúan en la secuencia?



10. ¿Cuál es la llave más larga? Marca la respuesta correcta.



11. Marca la operación que utilizarías para resolver el problema.

Melani vende 18 pantalones azules y 5 pantalones negros, ¿cuántos pantalones vende en total Milena?

a)  $18 + 5$

b)  $18 - 5$

c)  $18 + 4$

12. Lee la tabla y responde: ¿Cuántas prendas de vestir son azules?

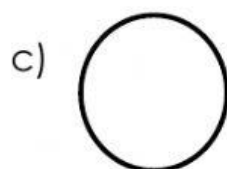
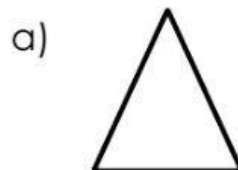
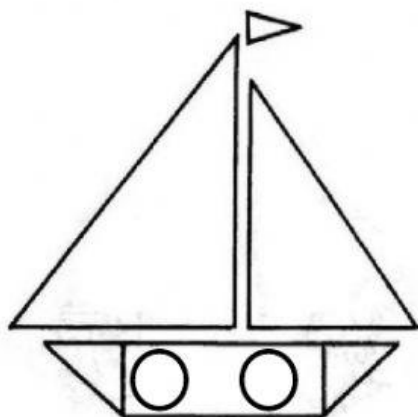
Prendas de vestir	Colores	
	Azul	Negro
Pantalones	12	15
Camisas	16	11

a) 12

b) 28

c) 26

13. ¿Cuál es la figura geométrica que más se ha utilizado en el siguiente dibujo?






**14.** Carlos compra 12 canicas y su primo Luis tiene 7 canicas, ¿cuántas canicas tienen los dos en total?


- a) 5 canicas.                      b) 19 canicas.                      c) 18 canicas.

**15.** Observa los recuadros y responde, ¿dónde encontramos más de 20 estrellas?

a)



b)



c)

