






EVALUACIÓN DE MATEMATICA

SEGUNDO GRADO "LOS KOALAS"

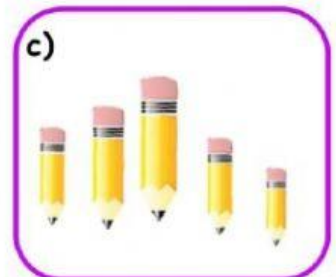
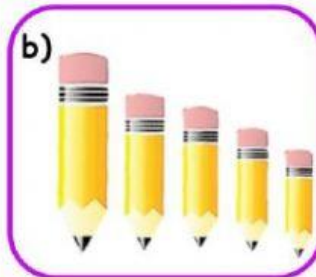
1. ELIGE LA IMAGEN QUE CUMPLE CON LA CONDICIÓN.

"TODOS LOS ANIMALES TIENEN CUATRO PATAS"



2. ELIGE LA IMAGEN QUE RESPONDE A LA PREGUNTA PLANTEADA.

¿En qué grupo los lápices están ordenados de **MAYOR** a **MENOR** tamaño?



3. OBSERVA LOS PRECIOS DE LOS INSTRUMENTOS MUSICALES. LUEGO RESPONDE LAS PREGUNTAS.



a) ¿Qué instrumento musical cuesta más?

b) ¿Qué instrumento musical cuesta menos?

c) Si deseo comprar la pandereta y la zampoña ¿Cuanto debo pagar?

d) Compro una maraca y pago con un billete de s/100 soles ¿Cuánto recibo de vuelto?

4. OBSERVA LA CANTIDAD DE GALLETAS QUE COMIERON LOS NIÑOS.



Tomás comió 5 galletas.

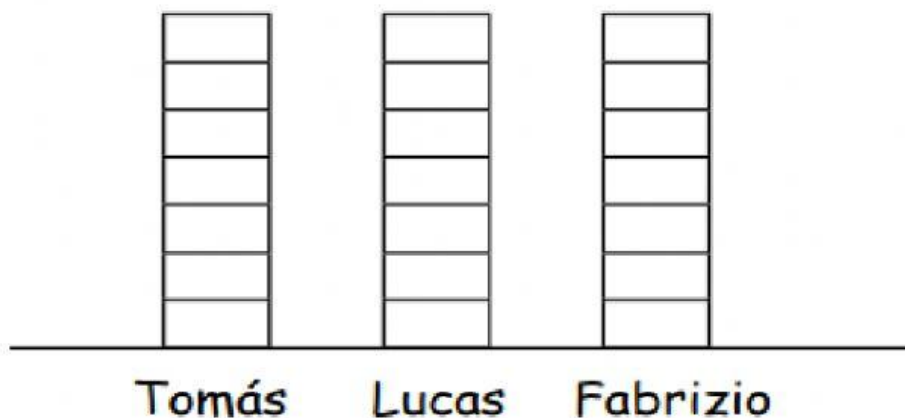


Lucas comió 4 galletas.



Fabrizio comió 6 galletas.

- AHORA, **ELIGE** LOS RECUADROS DE ACUERDO A LA CANTIDAD DE GALLETAS QUE COMIO CADA NIÑO.



_ RESPONDE:

- ¿Quién comió más de tres galletas?

- ¿Cuántas galletas comieron en total los niños?

- ¿Cuántas galletas le faltan comer a Lucas para igualar a la cantidad que comió Fabrizio?

5. PROBLEMAS.

Sara, Pablo y Ángel, han juntando tapitas, en cada bolsa han colocado 10 ¿Cuál es el número total de tapitas?



☐ a) 14 unidades.

☐ b) 14 decenas.

☐ c) 10 tapitas.

La clase de matemática ha terminado y los estudiantes salen del aula en fila. Rosa, Luz, Kristell, Marina, Saraí y Jesús ya salieron del salón. Ahora saldrán los niños que vemos en la imagen.



a) Rosa fue la primera en salir del salón, ¿quién saldrá en séptimo lugar?

☐ a) Sara.

☐ b) Juan.

☐ c) Eva.

b) Si Rosa fue la primera en salir del salón, ¿quién saldrá en décimo lugar?

☐ a) Juan.

☐ b) Miquel.

☐ c) Sara.

c) Si Rosa fue la primera en salir del salón, ¿en lugar saldrá María?

☐ a) En tercer lugar.

☐ b) En décimo lugar.

☐ c) En décimo segundo lugar.