



YAYASAN DARUL ULMU REBALAS GRATI

SEKOLAH MENENGAH PERTAMA

SMP DARUL ULMU 5 REBALAS GRATI

PENILAIAN AKHIR SEMESTER GANJIL

TAHUN PELAJARAN 2021/2022


Mata pelajaran : Prakarya

Nama : _____


Tgl Mengerjakan : _____

Kelas / Absen : ____ / ____

Pilihlah satu jawaban yang benar dengan memberi tanda (X) silang !

1.  Karya kerajinan yang dibuat dari bahan alam dari hutan, dan perairan yang sifatnya kuat, padat dan tidak mudah dibentuk disebut ...

A. Kerajinan bahan kayu C. kerajinan bahan keras alami
B. Kerajinan bahan keras air D. Bahan keras buatan

2.  Lala akan membuat kerajinan anyaman berbahan keras yang berasal dari alam, dilingkungan tempat tinggalnya terdapat banyak keras, bahan yang dipergunakan

A. Bambu C. Tempurung kelapa
B. Kayu D. Rotan

3. Perhatikan gambar kerajinan dibawah ini !
Adapun yang termasuk kerajinan bahan keras alami, pada gambar ...



1. keramik gajah



2. Bakul bambu



3. Lonceng besi



3 Lampu rotan

A. 1 dan 2

B. 1 dan 3

C. 2 dan 5

D. 2 dan 4

4. Produk kerajinan yang sering dipergunakan untuk hantaran atau parcel buah atau produk makanan yang terbuat dari bahan alam



A. Keranjang



B. Bakul



C. Bongsang



D. Tudung saji

5. Kayu merupakan salah satu sumber daya alam sebagai bahan kerajinan memiliki ciri-ciri yang seperti di bawah ini ...



1. Memiliki serat atau urat yang indah
2. Batangnya kuat, terjadi pelapukan jika terkena air terus
3. Memiliki lingkaran tahun
4. Sebagian dapat memuai karena perubahan suhu

Ciri-ciri kayu yang tepat ditunjukkan pada nomer ...

- A. 1,2,3 B. 2,4,5 C. 2,3,4 D. 1,3,4
6. Bambu merupakan salah satu bahan baku pembuatan kerajinan. Bambu mempunyai karakteristik tertentu. Yang termasuk karakteristik dari bambu....
- 1 Batangnya kuat, akan terjadi pelapukan jika terkena air secara terus menerus
 - 2 Memiliki rongga kurang lebih $\frac{1}{2}$ hingga 1 cm
 - 3 Memiliki rongga 1- 20cm, sehingga dapat dibuat sebagai wadah dalam kerajinan
 - 4 Memiliki ruas tetapi samar
 - 5 Memiliki ruas batang yang dalam pembuatan kerajinan sangat ditonjolkan
 - 6 Memiliki bentuk yang panjang yang bisa mencapai 10 m dan menjalar
 - 7 Tekstur batangnya halus meskipun tidak diampelas
- A. 1,2,3 dan 4 B. 2,3,4 dan 5 C. 2,4,6 dan 7 D. 1,3,5, dan 7
7. Pembuatan kerajinan dengan menggunakan teknik ukir, teknik bubut, teknik potong sambung dan teknik bor adalah teknik yang digunakan dalam pembuatan kerajinan bahan keras yang berasal dari bahan....
- A. Bambu B. Kayu C. Rotan D. Tanah liat
8. Pak Amir pengrajin kayu, beliau membuat berbagai produk kerajinan kayu. Pada produk yang dihasilkan selalu ada ornamen untuk mempercantik dan menambah nilai jual. Teknik yang digunakan pak Amir seperti gambar di bawah ini



- a. Teknik ukir
- b. Teknik bubut
- c. Teknik Bor
- d. Teknik Paha

9. Sebelum dijadikan bahan dasar kerajinan, rotan harus melalui proses pengolahan terlebih dahulu, salah satunya adalah proses “penggorengan” dengan tujuan....
- A. Menghilangkan kulit rotan C. Mempercantik kulit rotan
- B. Menurunkan kadar air dan mencegah jamur D. Mengkilapkan rotan
10. Teknik Pembuatan kerajinan dari bahan keras rotan seperti gambar di bawah ini merupakan teknik....



- A. ukir
- B. bubut
- C. anyam
- D. potong sambung

11. Setiap kerajinan yang kita buat memiliki beberapa nilai. Produk kerajinan dengan nilai fungsional, maksudnya adalah....
- Produk kerajinan yang bersifat memberi informasi atau menerangkan
 - Produk kerajinan yang mengutamakan fungsi dan kebergunaan
 - Produk kerajinan yang dibuat untuk keindahan tinggi, dengan bahan baku sedikit
 - Produk kerajinan yang mengutamakan sebuah kehormatan atau wibawa.
12. Faktor-faktor yang perlu diperlukan dalam membuat perancangan suatu produk seperti di bawah ini, meliputi :
- Menampilkan bentuk keindahan
 - Terjadi keserasian
 - Perupaian atau pewarnaan
 - Memiliki daya pikat
 - Penggarapan yang rinci / detail
- Keterangan diatas merupakan merupakan ciri dari faktor....
- Estetika
 - Teknis
 - Ekonomis
 - Ergnomis
13. Proses pembuatan anyaman rotan dilakukan dengan beberapa tahapan, berikut tahapan pembuatan yang benar adalah....
- Penganyaman, pembuatan kerangka, pengecatan, proses finishing
 - Pembuatan kerangka, penganyaman, pengecatan, proses finishing
 - Pembuatan kerangka, pengecatan, penganyaman, proses finishing
 - Penganyaman, pengecatan, pembuatan kerangka, proses finishing
14. Kerajinan dihasilkan manusia untuk memenuhi kebutuhan keseharian, yang memiliki fungsi pakai, diperuntukkan sebagai nilai informatif. Jenis produk kerajinan dari bahan buatan yang memiliki nilai informatif adalah



A. Kentongan



B. Kursi rotan



C. Kursi bambu



D. Lonceng

15. Benda kerajinan yang ada di sekitar kita dibuat untuk memenuhi kebutuhan hidup sehari-hari, seperti tempat nasi. Kerajinan tersebut memiliki nilai ...
- Fungsional
 - Informatif
 - Prestige
 - Simbolik
16. Kemasan merupakan alat penunjang sebuah produk yang memiliki nilai tambah yang diantaranya adalah penampilan. Pilihlah kemasan dibawah ini yang sesuai untuk kerajinan dari bahan logam berupa perhiasan....



A. Tas plastik



B. Kardus



C. Tas kertas



D. Kemasan mika

17. Penyajian sebuah produk kerajinan mempunyai peranan penting bagi produsen. Bentuk kemasan yang sesuai dan indah sangat membantu para pengrajin. Adapun tujuan kemasan ...

- 1). Melindungi produk dari cuaca
- 2). Melindungi produk dari guncangan dan benturan-benturan terhadap benda lain bl
- 3). Memberi nilai tambah pada produk
- 4). Melindungi setiap bentuk barang benda yang membungkus
- 5). Menampilkan kesan dan pandangan terhadap suatu isi produk.

A. 1,2,4 dan 5 B. 1,3,4,5 C. 1,2,3 dan 5 D. 2,3 ,4 dan 5

18. Ibu – ibu sering menggunakan alat untuk menghaluskan bumbu , dengan demikian benda kerajinan tersebut memiliki nilai fungsional. Di bawah ini, manakah benda kerajinan berbahan keras alam yang yang memiliki nilai fungsional...



A. Panci



B. Wajan



C. Perasan jeruk



D. Cobek batu

19. Zahra akan membuat kerajinan bahan keras yang berasal dari alam, di lingkungan tempat tinggalnya banyak tersedia bahan yang bisa digunakan sebagai kerajinan yang memiliki nilai simbolik ,berikut adalah contoh kerajinan yang mempunyai fungsi simbolik...

A. Kaligrafi B. Keranjang buah C. Kain ulos D. Tas

20. Kerajinan yang memiliki nilai simbolik, yang akan dibuat Zahra di atas yang tepat dari bahan seperti di bawa ini ...

A. Kayu B. Bambu C. Rotan D. Ranting

21. Pembuatan kerajinan kursi dengan menggunakan teknik potong sambung dan teknik menempel untuk pembuatan pigora menggunakan bahan kerajinan alam yaitu ...

A. Ranting B. Bambu C. Rotan D. Ranting

22. Indonesa tidak lepas dari daerah pesisir atau pantai, disana banyak bahan yang bisa diipergunakan sebagai cinderamata atau oleh-oleh bagi wisatawan domestik atau mancanegara, manakah kerajinan yang berasal dari bahan keras alam tersebut :



A. tirai kulit kerang



B. songkok bamboo



C. mozaik keramik



D. lambu hias bambu

23. Kerajinan dibuat dengan tujuan tertentu sesuai kebutuhan. Jenis produk kerajinan dari bahan keras alam yang dibuat sebagai nilai informatif adalah



A. Kentongan bambu



B. Kursi rotan



C. meja kursi bambu



D. lonceng besi

- 24.. Hasil karya kerajinan terwujud dalam berbagai bentuk dan gaya, untuk memenuhi kebutuhan jangka panjang seperti interior dan eksterior rumah, kebutuhan rumah tangga, dan kebutuhan sehari-hari. Kerajinan yang memiliki fungsi guna dan hias berbahan keras adalah ...



A. Miniatur kereta



B. songkok



C. vas bunga



D. wayang kayu

25. Benda kerajinan yang ada disamping merupakan kerajinan yang memiliki nilai



Aneka kerajinan benda keras rotan di atas memiliki nilai....

A. Fungsional

B. Informatif

C. Prestige

D. Simbolik

26. Perhatikan daftar ciri-ciri hasil perikanan di bawah ini!

- (1) berbentuk silinder kerucut memanjang
- (2) memiliki cangkang keras disisi luar punggung,
- (3) memiliki 10 tangan panjang berbentuk penghisap
- (4) termasuk golongan hewan bertulang belakang
- (5) memiliki tinta sebagai bentuk perlindungan diri.

Berdasarkan data diatas pernyataan yang merupakan ciri cumi-cumi ditunjukkan nomor...

A. (1), (2) dan (3)

C. (1), (3) dan (5)

B. (2), (3) dan (4)

D. (2), (4) dan (5)

27. Memasak bahan makanan dengan menggunakan cairan sebatas menutupi bahan makanan

dengan api kecil dibawah titik didih (92 - 96 C) adalah teknik pengolahan...

A. steaming

B. stewing

C. poaching

D. boiling

28. Merica merupakan rempah berwarna coklat , memiliki aroma yang khas dan rasa pedas. Rempah tersebut ditunjukkan pada gambar ...



A



B



C



D

29. Nina membeli oleh-oleh khas Sidoarjo berupa bandeng presto. Bandeng dikemas plastik kemudian dikemas pakai kardus yang warna-warni setelah membayar ikan bandeng diletakkan pada kantong kertas untuk dibawa pulang. Berdasarkan cerita diatas, Pengemasan / penyajian menggunakan...

- A. kemasan primer
B. penyajian primer
C. kemasan sekunder
D. kemasan tertier

30. Daging kerbau dan daging sapi merupakan contoh daging merah yang biasa ditemui pada masyarakat. Pernyataan dibawah ini yang merupakan perbedaan daging sapi dan daging kerbau yang tepat adalah ...

- A. daging kerbau tekstur serat yang lebih kasar, daripada tekstur serat sapi
B. warna daging kerbau berwarna merah daripada daging sapi yang berwarna merah gelap
C. lemak daging kerbau relatif tinggi dari pada lemak sapi yang relatif rendah
D. daging kerbau lebih empuk dari pada daging sapi

31. Dibawah ini manakah gambar yang menunjukkan proses pengolahan dengan teknik Steaming...



A



B



C



D

32. Keuntungan bahan pangan yang diolah menjadi bahan pangan setengah jadi, sebagai berikut :

- A. Aman dalam distribusi dari satu tempat ke tempat lain
B. Menambah ruangan dalam penyimpanan
C. Tahan lama dan tidak kuat panas
D. Pengemasan cukup rumit

33. Olahan pangan setengah jadi dari hasil perikanan berdasarkan pada tabel ditunjukkan pada nomor...

No	Pangan Setengah Jadi	No	Pangan Setengah jadi
1	Fillet Ikan	4	Dendeng
2	Surimi	5	Nugget ayam
3	Rumput laut	6	Tepung ikan

- A. 1, 2 dan 3 B. 2,3 dan 6 C. 1, 2 dan 6 D. 1,2 dan 5

34. Daging yang memiliki kandungan asam amino essensial didalamnya berperan sebagai ...
 A. Perkembangan dan memperbaiki sel syaraf
 B. Untuk menghindarkan tubuh dari anemia
 C. Perkembangan dan memperbaiki sel tubuh rusak
 D. Perkembangan dan pertumbuhan tulang

35. Ikan merupakan bahan pangan yang kaya akan vitamin A dalam minyak hati ikan dapat bermanfaat untuk ...
 A. Mencegah kebutaan pada anak
 B. Perkembangan syaraf
 C. perkembangan otak
 D. pertumbuhan sel

36. Perhatikan macam-macam ikan

- 1) ikan lele 4) ikan kembung
 2) ikan Tuna 5) ikan bandeng
 3) ikan mas 6) ikan tenggiri

Berdasarkan ekologiannya ikan yang diperairan laut yaitu...

- A. 1 - 2 - 3 B. 2 - 4 - 6 C. 3 - 4 - 5 D. 4 - 5 - 6
37. Ikan X menghabiskan sebagian atau seluruh hidupnya di air tawar, yaitu kolam ikan dan tubuh ikan X berwarna abu-abu sampai kehitaman, kulitnya licin dan memiliki kumis panjang. Ciri-ciri yang di tunjukkan pada ikan X adalah
 A. ikan bandeng B. ikan tuna C. Ikan lele D. ikan mas

38. Udang merupakan salah satu hasil perikanan yang banyak diminati oleh masyarakat. Udang dibedakan menjadi beberapa jenis. Jenis udang yang dapat hidup di air tawar yaitu ...
 A. Udang cokong dan udang windu C. Udang barong dan udang rebon
 B. Udang cokong dan udang barong D. Udang rebon dan udang jerbon

39. Rumput laut merupakan salah satu hasil perikanan yang banyak digunakan sebagai bahan pembuatan makanan. Rumput laut tidak memiliki akar, batang dan daun sejati sehingga tumbuh rumput laut secara keseluruhan disebut...
 A. Alga B. Thalys C. Thothok D. Alga makroskopis

40. Tabel ciri-ciri ayam kampung dan ayam leghorn

No	Ciri-ciri	Daging ayam Kampung	Daging Ayam Leghoren
1	Tekstur	Lebih kenyal	Lebih keras alot
2	Warna	Daging berwarna gelap/ merah	Warna daging lebih pucat
3	Nutrisi	Sedikit nilai gizi	Memiliki gizi lebih banyak
4	Lemak	Lemak lebih sedikit	Lemak lebih banyak

Perbedaan ciri-ciri antara ayam kampung dengan ayam leghorn berdasarkan tabel diatas yang tepat ditunjukkan oleh nomor ...

- A. 1 dan 2 B. 2 dan 3 C. 2 dan 4 D. 3 dan 4
41. Perhatikan pernyataan dibawah ini !

Kegiatan mengolah bahan baku pangan dengan proses pengawetan baik pengawetan secara kimia, fisika ataupun mikrobiologi, menjadi aneka ragam pangan setengah jadi yang digunakan selanjutnya Sebagai bahan baku pangan.
 Pernyataan diatas merupakan definisi dari

- A. Pengolahan
B. Bahan pangan
C. Olahan pangan setengah jadi
D. Olahan siap konsumsi
42. Pengolahan bahan pangan setengah jadi memiliki beberapa keuntungan, yaitu
(1) Aman dalam distribusi dari satu tempat ke tempat lainnya
(2) Menambah biaya dalam penyimpanan
(3) Tahan lama dan lebih kuat di cuaca dingin atau panas
(4) Sulit menentukan kemasan
Keuntungan mengolah bahan pangan menjadi produk setengah jadi yang tepat ditunjukkan oleh, nomor ...
A. (1) dan (2) B. (1) dan (3) C. (2) dan (3) D. (3) dan (4)
43. Surimi merupakan contoh olahan pangan setengah jadi. Pernyataan yang benar mengenai surimi yaitu :
A. Surimi adalah daging yang dihaluskan hingga membentuk seperti pasta
B. Surimi adalah bentuk irisan daging ikan tanpa tulang tanpa sisik dan tanpa kulit
C. Surimi hanya dapat dibuat dari ikan
D. Surimi merupakan produk pangan setengah jadi yang langsung bisa dikonsumsi
44. Olahan pangan setengah jadi yang berasal dari daging sapi dengan ciri-ciri pipih, tipis dan kering adalah ...
A. Sosis sapi B. kornet sapi C. Dendeng D. Ham untuk burger
45. Metode pembekuan dalam pengawetan makanan merupakan cara yang efektif, mudah, cepat, praktis dan relatif lebih aman. Selama suhu titik bekunya bisa dipertahankan, pertumbuhan mikroorganisme dapat dikendalikan.
Tujuan metode pembekuan terhadap mikroorganisme adalah ...
A. Menghentikan pertumbuhan mikroorganisme sementara
B. Mematikan mikroorganisme yang ada
C. Menghentikan pertumbuhan mikroorganisme selamanya
D. Menghilangkan mikroorganisme dalam makanan
46. Perhatikan Pembuatan Fillet Ikan Berikut Ini
(1) Potong bagian kepala
(2) Buatlah sayatan dibelakang kepala dan insang potong miring
(3) Setelah fillet selesai lakukan dibagian sisi ikan sebelahnya
(4) Potong bagian ikan sehingga pisau berhenti pada bagian tulang ikan sampai ekor
Urutan pembuatan fillet ikan berdasarkan pernyataan diatas yang tepat adalah
A. (1) , (2) , (3) , (4) C. (1) , (2) , (4) , (3)
B. (2) , (1) , (4) , (3) D. (2) , (4) , (1) , (3)
47. Bahan yang digunakan untuk membuat makanan setengah jadi dari daging ayam, tepung panir, telur dan bumbu adalah bahan makanan setengah jadi untuk membuat..
A. sosis B. nugget C. perkedel D. Sempol

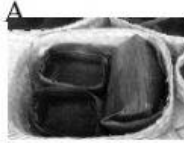
48. Perhatikan Tabel berikut

Komposisi	Jenis Daging			
	Ayam	Sapi	Kerbau	Kambing
Protein	18,2	18,8	18,7	16,6
Lemak	25	14	0,5	9,2
Besi, mg/100gr	1,5	2,8	2	1

Berdasarkan tabel diatas tentukan kandungan protein kerbau dan kandungan zat besi ayam yaitu ...

- A. 18,2 dan 1,5 B. 18,8 dan 2,8 C. 18,7 dan 1,8 D. 18,7 dan 1,5

49. Modifikasi kemasan tradisional dan modern terdapat pada gambar...



50. Gambar disamping menunjukan penyajian secara...

- A. Penyajian modern
B. Penyajian tradisional

- C. kemasan modern
D. kemasan tradisional

