



COLEGIO DE BACHILLERATO "PRIMERO DE MAYO"

YANTZAZA - ZAMORA CHINCHIPE ECUADOR

ESTUDIANTE:

DOCENTE: Gloria M. Rueda Rodríguez



ASIGNATURA: Física



<https://www.youtube.com/watch?v=w8zhrQE1xPw>

Observa el video y contesta.

1. Selecciona y arrastra las imágenes que se encuentran en movimiento en el recuadro amarillo y las que no se mueven en el recuadro celeste.





<https://www.youtube.com/watch?v=olt987SXRxA&t=26s>

Observa el video y contesta.

Une el gráfico según su trayectoria con el movimiento que genera

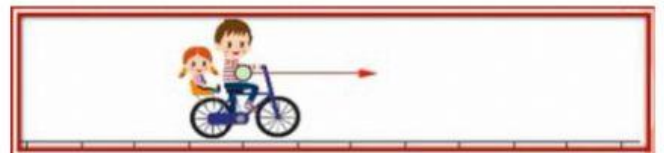
RECTILÍNEO



CIRCULAR



PARABÓLICO



ELÍPTICO

