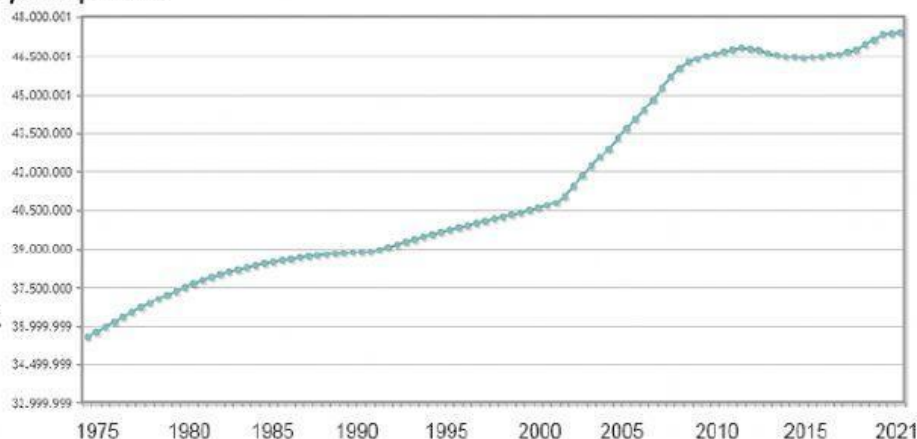


LA POBLACIÓN DE ESPAÑA Y EUROPA

Carpe Diem!

1. Observa el gráfico de España y responde.

- ¿Ha aumentado o ha disminuido la población desde 1975?
- ¿Cuántas personas viven en España actualmente?



2. Define estos conceptos.


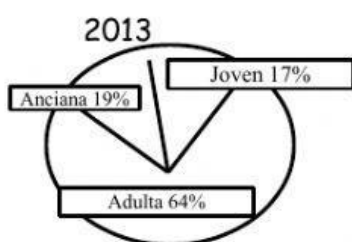
- Natalidad:
- Mortalidad:

3. Lee la información, calcula y resuelve.

En 2014, en la localidad de Brujillas nacieron 45 niños y murieron 23 personas.

- ¿Cuál fue el saldo natural de Brujillas en 2014?
- ¿Aumentó o disminuyó la población de Brujillas?

4. Observa los gráficos de España y responde.



- En 2013, ¿qué porcentaje de población mayor había?
- En 2013, ¿qué porcentaje de población joven había?
- ¿Cómo han evolucionado estos dos grupos de población?

¿Y en 1980?

¿Y en 1980?

5. Explica qué es la esperanza de vida.

6. Di quiénes forman los siguientes grupos.

- Población activa:
- Población inactiva:

7. Enumera las Comunidades Autónomas con mayor número de inmigrantes.

8. Completa el texto.

En España, las zonas más densamente pobladas son _____ y _____ ,
mientras que las zonas menos pobladas se encuentran en _____ de la Península, salvo
excepciones como la Comunidad de _____ , que es la más poblada de España. Dentro de cada
provincia, la población se concentra en _____ .

9. ¿Cuál es la principal característica de la población europea en la actualidad?

10. Escribe dos razones que expliquen cada uno de estos hechos.

- Baja natalidad en España:

- Alta esperanza de vida en España:

11. Di si son población activa o inactiva.

- Ama de casa:

- Persona en paro:

- Jubilado que trabaja como voluntario:

12. ¿Los inmigrantes de Marruecos y Reino Unido vienen a España por el mismo motivo?