

2° Básico "A" Y "B"
Evaluación del Primer parcial 2° Quimestre


MATEMÁTICAS

Nombre: _____


Fecha: Viernes 10 de Dcbre /21

1.- DICTADO DE CANTIDADES


1.-




2.-




3.-



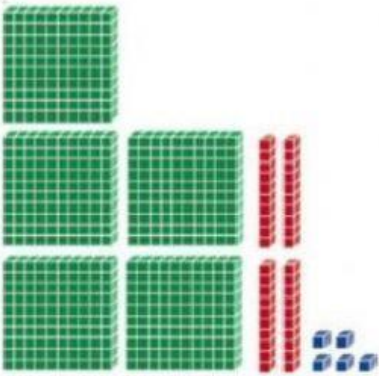
4.-

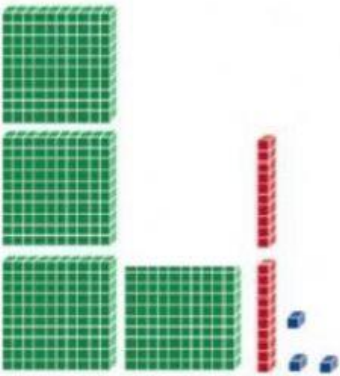


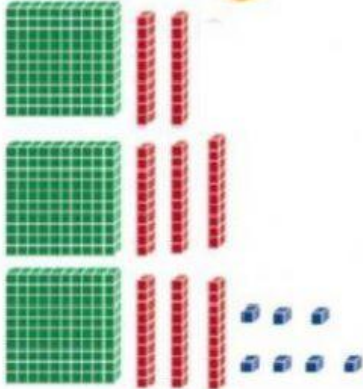
5.-





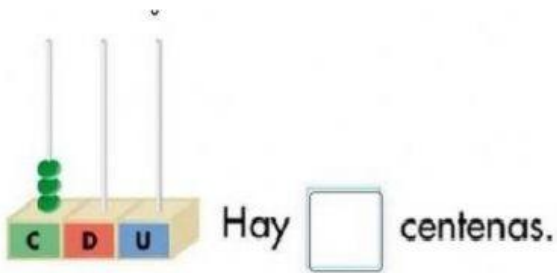
2.- ESCRIBE EL NÚMERO EN CADA CASO







3.- CUENTA Y ESCRIBE LAS CENTENAS



4.- OBSERVA Y UNE A LA DESCOMPOSICIÓN

9 C, 4 D y 6 U

9 C, 3 D y 9 U

9 C, 0 D y 1 U

9 C, 8 D y 0 U

$900 + 80$

$900 + 1$

$900 + 40 + 6$

$900 + 30 + 9$

5.- ORDENA LAS CANTIDADES DE MAYOR A MENOR

104

14

78

99

114

> > > >

6.- ORDENA LAS CANTIDADES DE MENOR A MAYOR

900

79

219

410

101

< < < <

7.- REALIZA LAS SUMAS LLEVANDO

$$\begin{array}{r} \square\square \\ 374 \\ + 568 \\ \hline \square\square\square \end{array}$$

$$\begin{array}{r} \square \\ 203 \\ + 189 \\ \hline \square\square\square \end{array}$$

$$\begin{array}{r} \square\square \\ 198 \\ + 506 \\ \hline \square\square\square \end{array}$$

8.- OBSERVA LAS CENTENAS, LAS DECENAS Y LAS UNIDADES Y MARACA EL NUMERO QUE CUMPLA LAS CONDICIONES

8 C 9 D
6 C 5 D

☐ 605 ☐ 650 ☐ 560

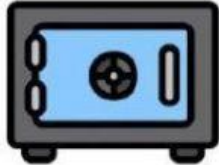
3 C
3 U 3 D
7 D

☐ 373 ☐ 337 ☐ 733

6 U
6 C 9 C
1 D

☐ 961 ☐ 691 ☐ 916

9.- Descubre a partir de las pistas el código secreto de la caja fuerte



- La unidad es 6.
- Es par.
- La decena es 1.




136



416



142



- Es impar.
- La centena es 3.
- Es mayor de 300.



304



315



230