

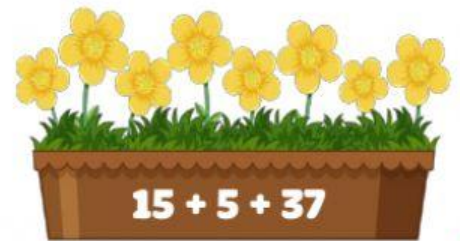


Họ và tên:

Toán  
Ôn tập tuần 12

## KHU VƯỜN TRÊN MÂY



Tầng mây  
hồng phấn

Tính tổng để nối những chú ong với chậu hoa thích hợp:



Tầng mây  
xanh dương

Đặt tính rồi tính rồi đánh dấu ✓ dưới bình tưới nước có số thứ tự lớn nhất:



Tầng mây  
xanh lá

Điền dấu >, <, = để so sánh kích thước các chậu cây.



$12 + 5$



$9 + 7$



$29 + 2 + 4$

$29 + 6 + 2$



$77 + 3$



$75 + 5$

Tầng mây  
vàng tươi

Đánh dấu vào những chậu hoa để được kết quả là 70.



15



17



35



13



40

Tầng mây  
tím nhạt

Giải toán cẩn thận và chính xác em nhé!

Trong khu vườn trên mây có 38 cây hoa hồng và 45 cây hoa hướng dương. Hỏi khu vườn có tất cả bao nhiêu cây hoa?

Bài giải

Đáp số:

Đội Cam trồng được 36 cây hoa lan. Đội Nâu trồng được nhiều hơn đội Cam 9 cây. Hỏi đội Nâu trồng được bao nhiêu cây hoa lan?

Bài giải

Đáp số: