

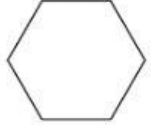

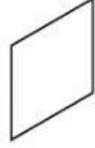
الأشكالُ المُستويةُ : الأضلاعُ والرؤوسُ

٥ - ٧

أصِلْ بَيْنَ اسْمِ الشَّكْلِ وَعَدَدِ أَضْلَاعِهِ أَوْ عَدَدِ رُؤُوسِهِ:

- | | |
|------------|----------------|
| ٤ أضلاع | ١ سداسي |
| لا رؤوس له | ٢ متوازي أضلاع |
| ٦ رؤوس | ٣ مثلث |
| ٣ أضلاع | ٤ دائرة |

اكتب اسم الشكل ، ثم أذكر صفتين له:

.....		٥
.....		٦
.....		٧