

1. SELECCIONA LA RESPUESTA CORRECTA

a. La educación vial nos permite conocer:

Normas y calles

Normas y señales de tránsito

Normas y vías de tránsito

b. Conocer las normas de tránsito nos evitan tener:

Tránsito libre


vehículos

Accidentes


c. Debemos conocer las normas de tránsito los:



d. El peatón puede cruzar la calle cuando la luz del semáforo del peatón está en:



e. El peatón tiene que detenerse cuando la luz del semáforo del peatón está en:



f. Identifica las siguientes normas de tránsito

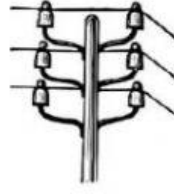
Utilizar paso cebra



Usar el cinturón de seguridad.



**g.- Identifica cuales son servicios públicos**



**h.- Es un servidor público**



SI

NO

**2.- Une con lo correspondiente:**

**a. El color del semáforo con su significado**



PRECAUCIÓN

CONTINUAR

DETENERSE

**b.- Los servicios públicos con su respectiva clasificación:**

LUZ ELÉCTRICA

SERVICIO DE EMERGENCIA

REGISTRO CIVIL

SERVICIO BÁSICOS

POLICIA

SERVICIO DE BUROCRACIA