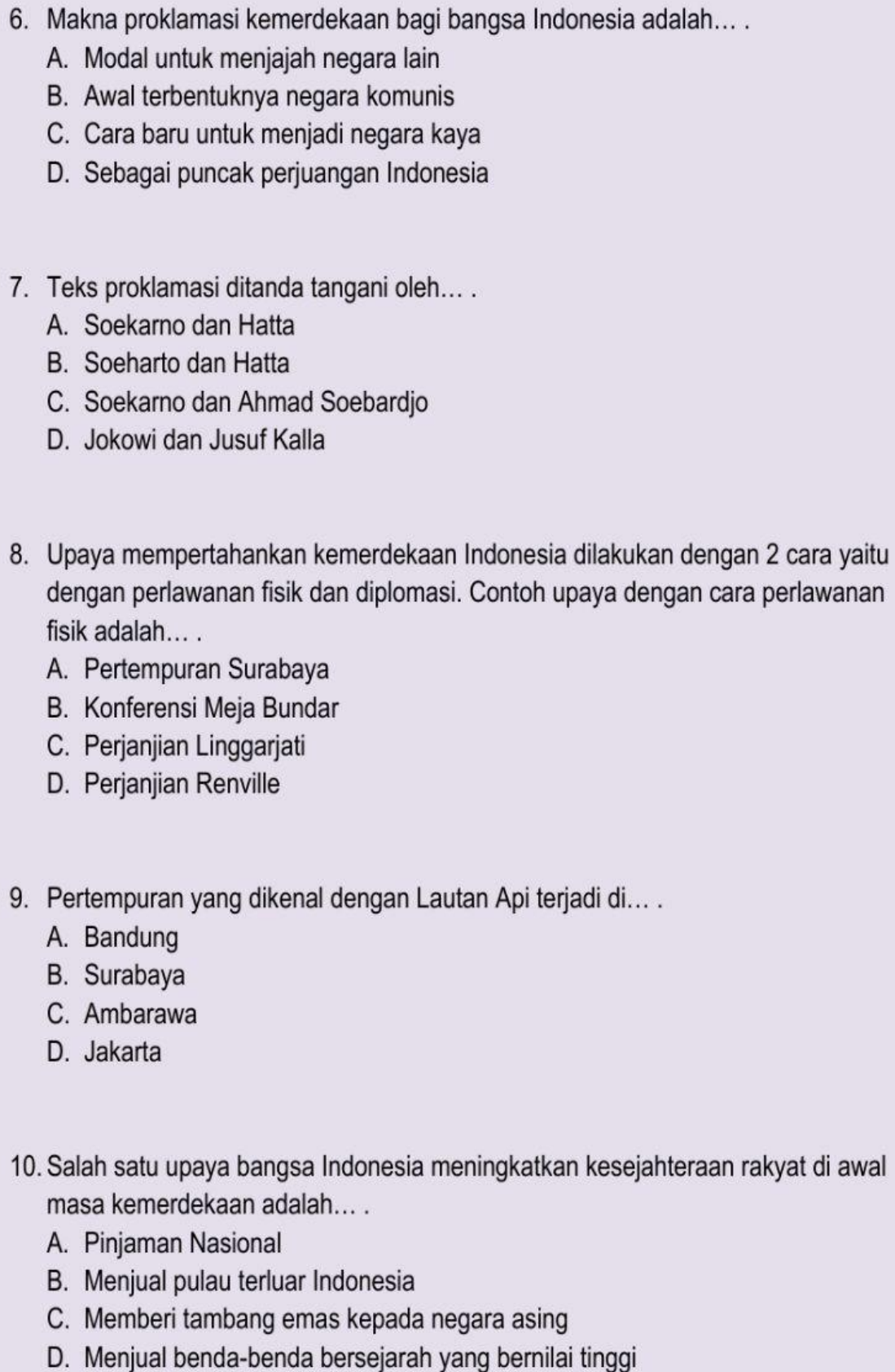


**Penilaian Akhir Semester I Kelas VI SD Negeri 22 Bengkalis
Tahun Pembelajaran 2021/2022**

Pilihlah satu jawaban yang paling benar!

1. Organisasi persatuan negara-negara di Asia Tenggara dinamakan... .
A. APEC
B. ASEAN
C. PBB
D. NATO
2. Tujuan didirikan ASEAN adalah untuk... .
A. Mensejahterakan negara-negara yang berada di kawasan Asia Tenggara
B. Meningkatkan kualitas dan prestasi di bidang olahraga dunia
C. Meningkatkan kerjasama negara di kawasan Amerika
D. Menguasai wilayah negara-negara maju
3. Negara yang tergabung dalam organisasi ASEAN adalah, **kecuali**... .
A. Indonesia
B. India
C. Malaysia
D. Thailand
4. Negara anggota ASEAN yang dipimpin dan diperintah oleh seorang sultan adalah... .
A. Filipina
B. Thailand
C. Myanmar
D. Brunei Darussalam
5. Negara anggota ASEAN yang merupakan negara industri paling maju di Asia Tenggara adalah... .
A. Indonesia
B. Singapura
C. Malaysia
D. Laos

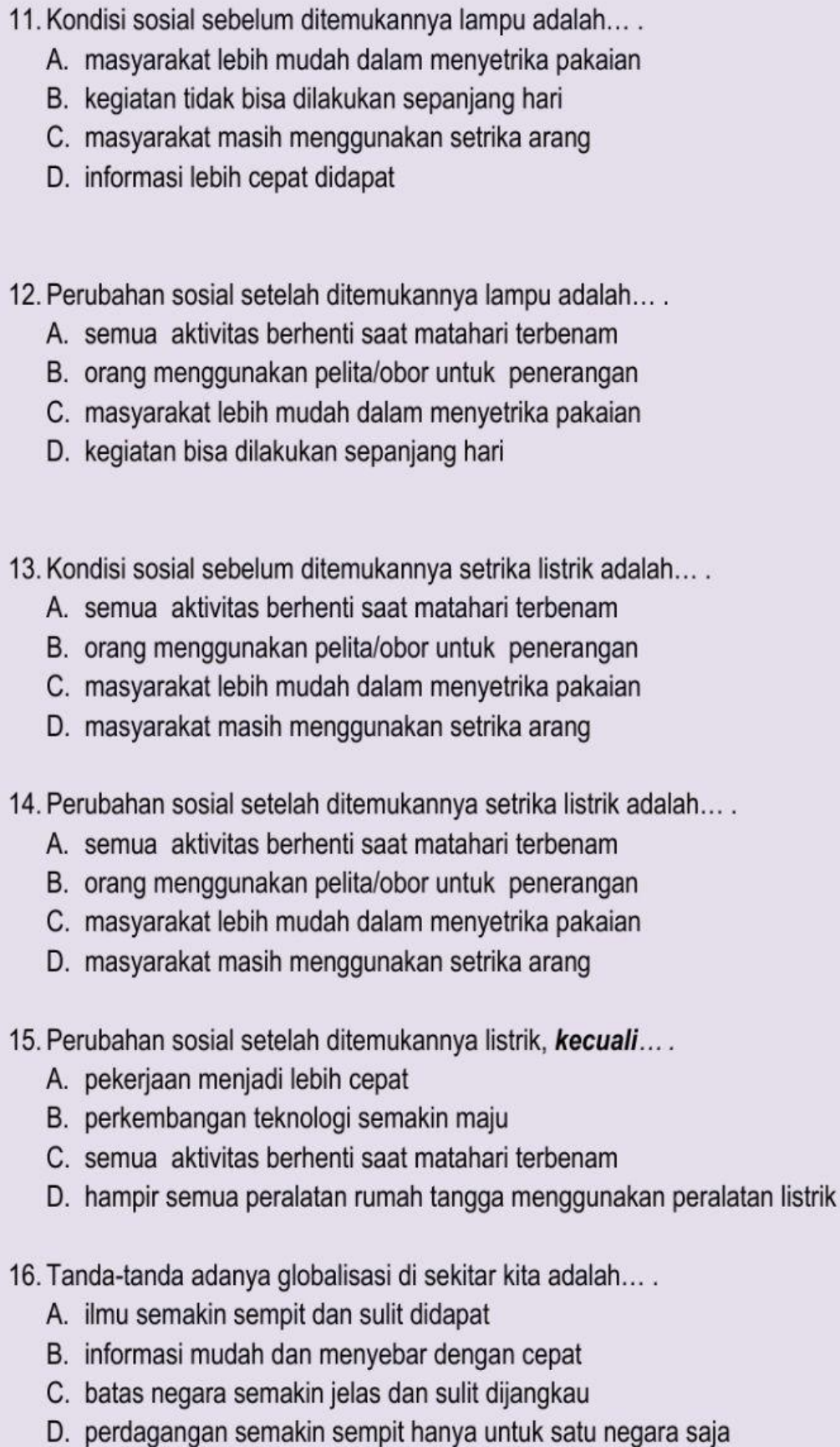
- 
6. Makna proklamasi kemerdekaan bagi bangsa Indonesia adalah... .
 - A. Modal untuk menjajah negara lain
 - B. Awal terbentuknya negara komunis
 - C. Cara baru untuk menjadi negara kaya
 - D. Sebagai puncak perjuangan Indonesia

 7. Teks proklamasi ditanda tangani oleh... .
 - A. Soekarno dan Hatta
 - B. Soeharto dan Hatta
 - C. Soekarno dan Ahmad Soebardjo
 - D. Jokowi dan Jusuf Kalla

 8. Upaya mempertahankan kemerdekaan Indonesia dilakukan dengan 2 cara yaitu dengan perlawanan fisik dan diplomasi. Contoh upaya dengan cara perlawanan fisik adalah... .
 - A. Pertempuran Surabaya
 - B. Konferensi Meja Bundar
 - C. Perjanjian Linggarjati
 - D. Perjanjian Renville

 9. Pertempuran yang dikenal dengan Lautan Api terjadi di... .
 - A. Bandung
 - B. Surabaya
 - C. Ambarawa
 - D. Jakarta

 10. Salah satu upaya bangsa Indonesia meningkatkan kesejahteraan rakyat di awal masa kemerdekaan adalah... .
 - A. Pinjaman Nasional
 - B. Menjual pulau terluar Indonesia
 - C. Memberi tambang emas kepada negara asing
 - D. Menjual benda-benda bersejarah yang bernilai tinggi

- 
11. Kondisi sosial sebelum ditemukannya lampu adalah... .
- A. masyarakat lebih mudah dalam menyetrika pakaian
 - B. kegiatan tidak bisa dilakukan sepanjang hari
 - C. masyarakat masih menggunakan setrika arang
 - D. informasi lebih cepat didapat
12. Perubahan sosial setelah ditemukannya lampu adalah... .
- A. semua aktivitas berhenti saat matahari terbenam
 - B. orang menggunakan pelita/obor untuk penerangan
 - C. masyarakat lebih mudah dalam menyetrika pakaian
 - D. kegiatan bisa dilakukan sepanjang hari
13. Kondisi sosial sebelum ditemukannya setrika listrik adalah... .
- A. semua aktivitas berhenti saat matahari terbenam
 - B. orang menggunakan pelita/obor untuk penerangan
 - C. masyarakat lebih mudah dalam menyetrika pakaian
 - D. masyarakat masih menggunakan setrika arang
14. Perubahan sosial setelah ditemukannya setrika listrik adalah... .
- A. semua aktivitas berhenti saat matahari terbenam
 - B. orang menggunakan pelita/obor untuk penerangan
 - C. masyarakat lebih mudah dalam menyetrika pakaian
 - D. masyarakat masih menggunakan setrika arang
15. Perubahan sosial setelah ditemukannya listrik, **kecuali**.... .
- A. pekerjaan menjadi lebih cepat
 - B. perkembangan teknologi semakin maju
 - C. semua aktivitas berhenti saat matahari terbenam
 - D. hampir semua peralatan rumah tangga menggunakan peralatan listrik
16. Tanda-tanda adanya globalisasi di sekitar kita adalah... .
- A. ilmu semakin sempit dan sulit didapat
 - B. informasi mudah dan menyebar dengan cepat
 - C. batas negara semakin jelas dan sulit dijangkau
 - D. perdagangan semakin sempit hanya untuk satu negara saja

17. Dampak positif adanya globalisasi adalah... .

- A. semangat kerja menurun
- B. masyarakat semakin mundur
- C. ruang sosial semakin tertutup
- D. adanya pertukaran budaya antar negara

18. Dampak negatif adanya globalisasi adalah... .

- A. semangat kerja meningkat
- B. masyarakat semakin maju
- C. ruang sosial semakin terbuka
- D. adanya pengaruh budaya yang kurang baik

19. Membanjirnya produk luar negeri merupakan dampak... .

- A. positif globalisasi
- B. negatif globalisasi
- C. positif wirausaha
- D. negatif wirausaha

20. Salah satu tanda kita mencintai negara kita adalah... .

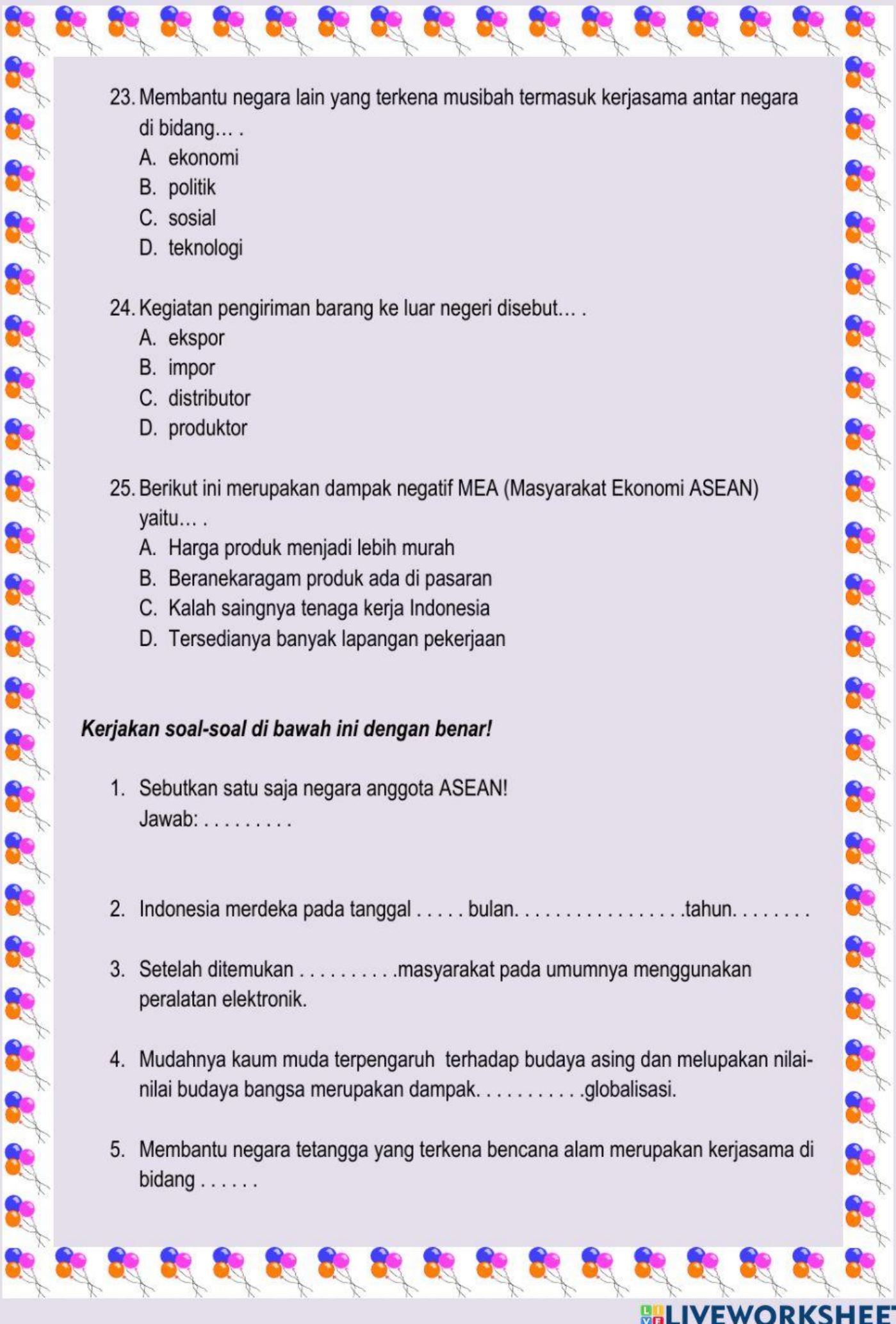
- A. membeli produk luar negeri
- B. membeli produk dalam negeri
- C. membeli produk yang mahal
- D. membeli produk yang murah

21. Hal yang melatarbelakangi terjadinya kerjasama ekonomi antar negara adalah....

- A. masih terdapat negara yang suka menjajah dan memerangi negara lain
- B. setiap negara tidak mampu menjalankan perekonomiannya sendiri
- C. setiap negara memiliki mata uangnya masing-masing
- D. masing-masing negara memiliki keindahan masing-masing

22. Peran Indonesia dalam lingkup ASEAN di bidang ekonomi, **kecuali**... .

- A. ikut menjadi anggota koperasi ASEAN
- B. mendirikan industri pupuk ASEAN di Aceh
- C. ikut mewujudkan kawasan perdagangan bebas
- D. membantu negara anggota ASEAN yang terkena bencana alam

- 
23. Membantu negara lain yang terkena musibah termasuk kerjasama antar negara di bidang... .
- A. ekonomi
 - B. politik
 - C. sosial
 - D. teknologi
24. Kegiatan pengiriman barang ke luar negeri disebut... .
- A. ekspor
 - B. impor
 - C. distributor
 - D. prodaktor
25. Berikut ini merupakan dampak negatif MEA (Masyarakat Ekonomi ASEAN) yaitu... .
- A. Harga produk menjadi lebih murah
 - B. Beranekaragam produk ada di pasaran
 - C. Kalah saingnya tenaga kerja Indonesia
 - D. Tersedianya banyak lapangan pekerjaan

Kerjakan soal-soal di bawah ini dengan benar!

1. Sebutkan satu saja negara anggota ASEAN!
Jawab:
2. Indonesia merdeka pada tanggal bulan.....tahun.....
3. Setelah ditemukanmasyarakat pada umumnya menggunakan peralatan elektronik.
4. Mudahnya kaum muda terpengaruh terhadap budaya asing dan melupakan nilai-nilai budaya bangsa merupakan dampak.....globalisasi.
5. Membantu negara tetangga yang terkena bencana alam merupakan kerjasama di bidang