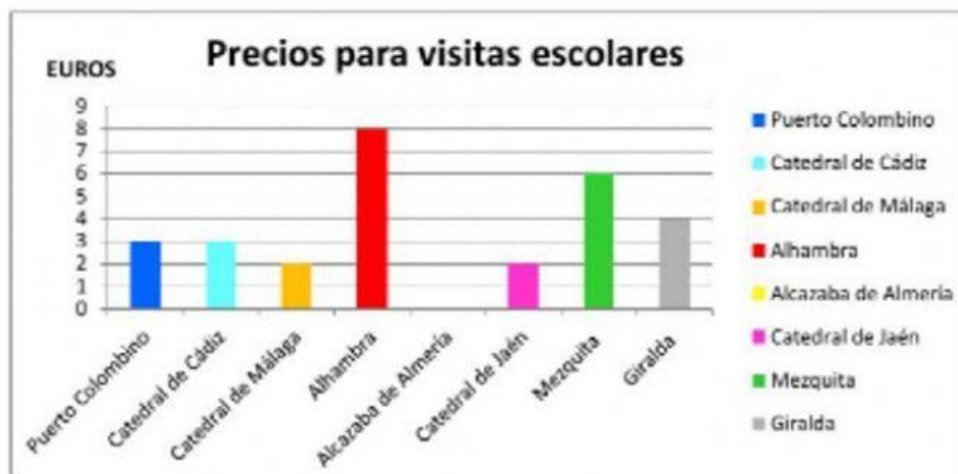


ACTIVIDADES INTERACTIVAS ESTADÍSTICA

1. Observa el mapa de Andalucía con los monumentos más importantes de cada provincia.



El siguiente gráfico muestra los precios para escolares de las entradas de los monumentos del mapa anterior. Responde a las preguntas.



¿En qué provincia se encuentra la Mezquita?


¿En qué monumento no tendrías que pagar nada?

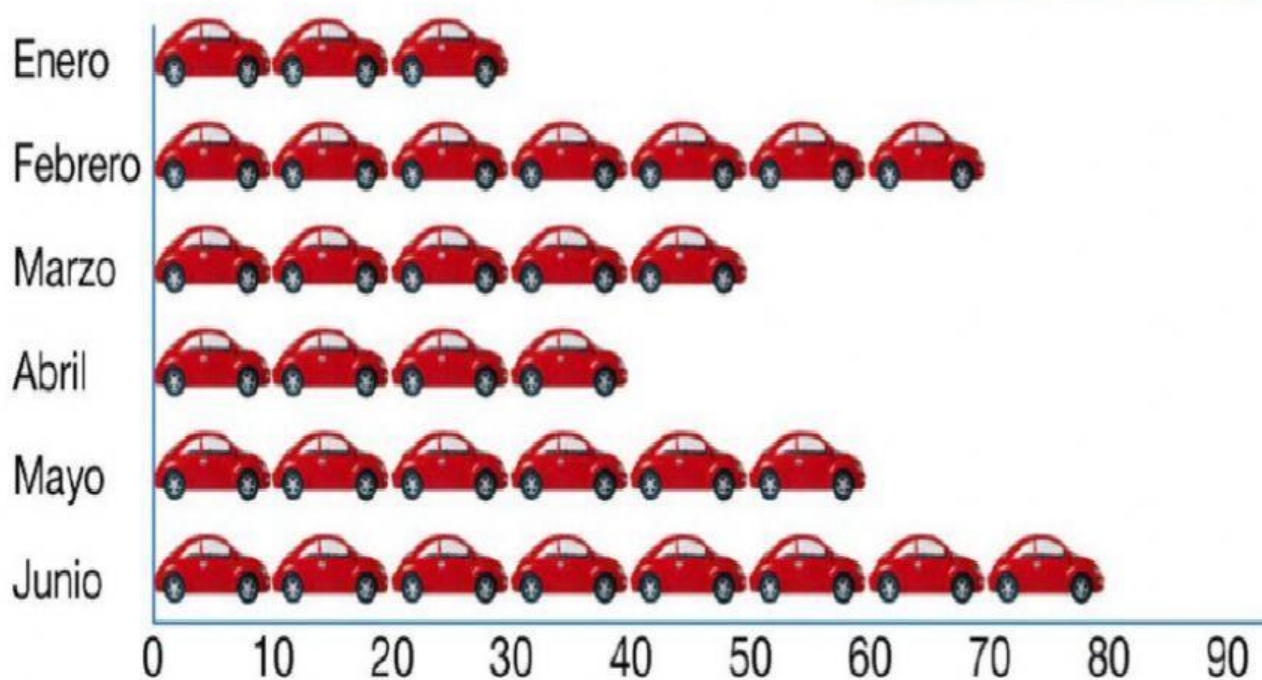
¿Qué dos monumentos cuestan tres euros?

Calcula el precio total de las entradas a todos los monumentos.

2. Lee los datos del pictograma y completa.

Ventas de coches

 = 10 coches



● ¿Cuántos coches se vendieron cada mes?

Enero

Febrero

Marzo

Abril

Mayo

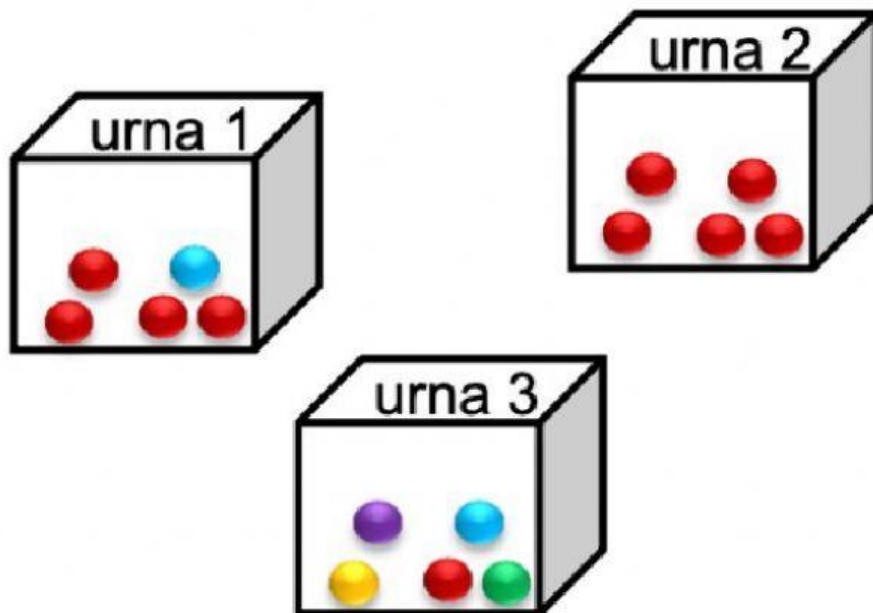
Junio

● ¿Cuántos coches se vendieron en total en abril y mayo?

● ¿Cuántos coches más se vendieron en junio que en enero?

ACTIVIDADES INTERACTIVAS PROBABILIDAD

1. Beatriz quiere sacar una bola roja de forma segura. ¿De qué urna debe extraer la bola? Selecciona la opción correcta.



2. Observa la bolsa y completa cada oración con una de estas palabras.

imposible

seguro

posible

Si elegimos una bola al azar: Es

elegir una bola blanca.

Quitamos una bola negra. Si ahora elegimos una bola al azar:

Es elegir una bola blanca.

Es elegir una bola negra.

