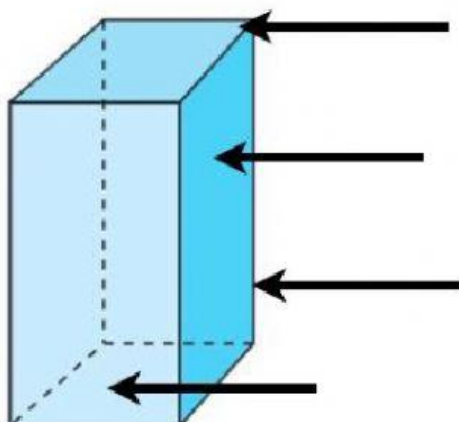


Los prismas

1. Coloca cada elemento en su lugar y responde a las preguntas.



Base

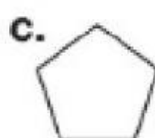
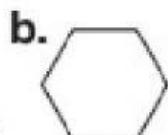
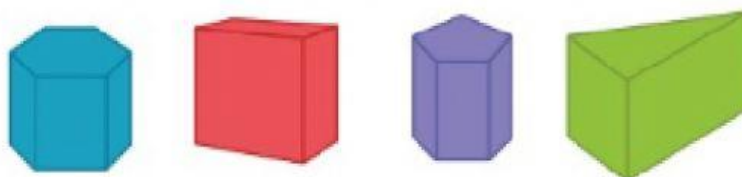
Vértice

Arista

Cara lateral

- ◆ ¿Cómo se llama esta figura?
- ◆ ¿Cuántas bases tiene?
- ◆ ¿Cuántas caras tiene?

2. Une cada prisma con su base correspondiente, es decir cómo se ve si lo miramos desde arriba.



3. Selecciona la opción correcta:

	Nombre del prisma	Base	Nº de caras laterales	Nº de aristas
