

1° Básico "A"

Evaluación del Primer parcial 2° Quimestre

LÓGICO MATEMÁTICO

Nombre: _____


Fecha: Martes 07 de Dcbre /21



1. UNE EL NÚMERO CON LA DESCOMPOSICIÓN Y REPRESENTACIÓN EN BASE 10

$$40 + 8$$

$$\blacksquare 76 \blacksquare$$



$$70 + 6$$

$$\blacksquare 48 \blacksquare$$

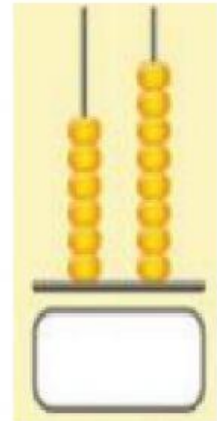
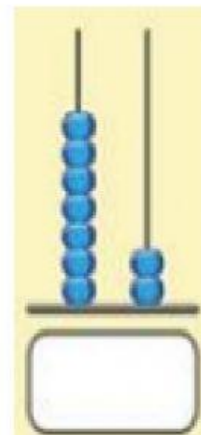
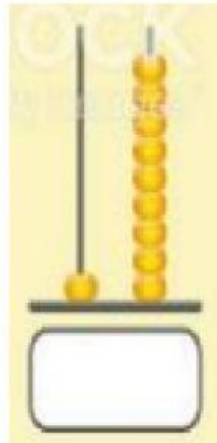
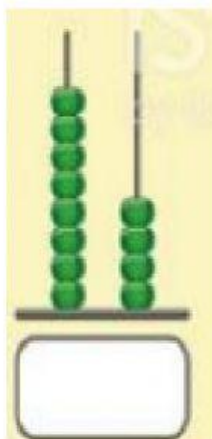
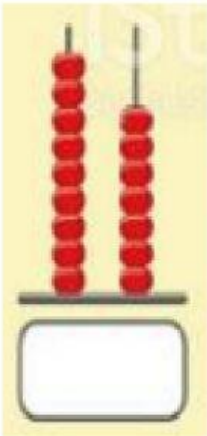


$$80 + 1$$

$$\blacksquare 81 \blacksquare$$



2.- OBSERVA EL ÁBACO Y CUENTA LAS BOLITAS DE LA U Y D Y ESCRIBE LA CANTIDAD





3.- OBSERVA LOS NÚMEROS, FORMA OTRAS CANTIDADES Y ESCRIBELOS EN LOS RECUADROS



3	6	7	3	8	2	6
2	4	6	4	9	1	9
1	5	2	7	4	4	8
4	2	1	2	7	6	7
7	5	4	1	5	1	4
9	8	5	5	1	8	1
8	7	8	1	4	9	2

<input type="text"/>	<input type="text"/>	<input type="text"/>	<input type="text"/>	<input type="text"/>
----------------------	----------------------	----------------------	----------------------	----------------------




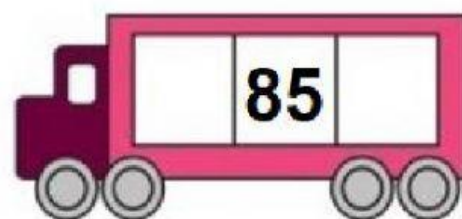
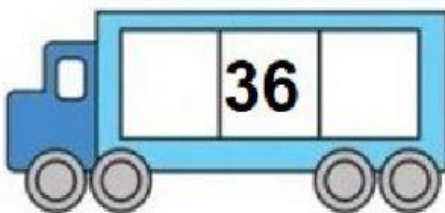
4.- OBSERVA LOS CAMIONES Y ESCRIBE EL NÚMERO ANTERIOR Y POSTERIOR

Número **A**

Número **P**

Número **A**

Número **P**





5.- REALIZA LAS SIGUIENTES SUMAS Y RESTAS

SUMAS

	D	U
+	6	4
	3	5

	D	U
+	8	6
	1	0

RESTAS


	D	U
-	3	2
	2	1

	D	U
-	5	3
	4	1



6.- ESCUCHA A TU MAESTRA Y ESCRIBE EL NUMERAL QUE TE INDICA

1.-



2.-



3.-



4.-



5.-

