



## SDLB TUNARUNGU PANGUDI LUHUR

Jl. Pesanggrahan 125, Kembangan,  
Jakarta Barat 11610 Telp. 021-5804223

### PENILAIAN AKHIR SEMESTER I TAHUN PELAJARAN 2021-2022

=====  
Mata Pelajaran : IPS Nama/ Kelas: / 3B  
Hari, Tanggal : Selasa, 7 Desember 2021 Waktu : 07.40 - 09.10  
=====

- I. Pilihlah huruf A, B atau C di depan jawaban yang benar!
- II. Isilah titik-titik berikut dengan jawaban singkat yang benar!
- III. Kerjakan sesuai perintah!

#### KD. 3.1 Mengidentifikasi aneka pekerjaan manusia.

1. Kebutuhan hidup manusia meliputi kebutuhan pokok dan kebutuhan ....
  - A. bersama
  - B. tambahan
  - C. utama

2. Perhatikan gambar berikut!



Pekerjaan orang seperti pada gambar tersebut adalah ....

- A. juru lukis
  - B. juru masak
  - C. juru kunci
3. Orang yang bertugas melayani dan melindungi masyarakat disebut ....
  - A. polisi
  - B. pilot
  - C. petani
4. Tempat kerja dokter dan perawat adalah ....



- A. sekolah



- B. galeri seni



C. rumah sakit

5. Jenis pekerjaan ada 2 yaitu bergerak di bidang jasa dan pekerjaan yang menghasilkan \_\_\_\_\_



6. Pekerjaan orang seperti pada gambar tersebut adalah \_\_\_\_\_

7. Supir bis Trans Jakarta merupakan salah satu contoh pekerjaan yang memerlukan \_\_\_\_\_

8. Tuliskan 2 alasan orang harus bekerja!

Jawab:

---

---

### KD. 3.2 Mengenal rambu-rambu lalu lintas.

9. Kepanjangan APILL adalah ....

- A. Alat Pemberian Ikatan Lalu Lintas
- B. Alat Pemberi Isyarat Lalu Lintas
- C. Alat Pemancar Isyarat Lalu Lintas



10. Berikut adalah gambar ....

- A. lampu Isyarat Pejalan Kaki
- B. lampu merah, lampu hijau
- C. lampu APILL



11. Rambu berikut artinya ....

- A. dilarang putar balik
- B. dilarang berhenti
- C. dilarang parkir sembarangan



12. Tempat untuk menyeberang pejalan kaki dinamakan \_\_\_\_\_

13. Lampu Isyarat Pejalan Kaki berfungsi membantu pejalan kaki untuk \_\_\_\_\_



14. Lampu APILL berwarna merah berarti kendaraan \_\_\_\_\_

15. Sebutkan 2 fungsi lampu APILL!

Jawab:

---

---

#### KD. 3.3 Mengenal kegiatan jual-beli.

16. Kegiatan yang dilakukan untuk memperoleh barang dengan alat tukar berupa uang disebut kegiatan ....

- A. tawar
- B. tolong-menolong
- C. jual-beli

17. Orang yang menjajakan barang dagangannya disebut ....

- A. pengepul
- B. pembeli
- C. penjual

18. Berikut yang **bukan** tempat untuk melakukan kegiatan jual-beli adalah ....



A. pasar swalayan



B. tempat ibadah



C. kedai

19. Alat tukar yang digunakan dalam kegiatan jual-beli dinamakan \_\_\_\_\_
20. Manusia melakukan kegiatan jual beli untuk \_\_\_\_\_ kebutuhan hidupnya.
21. Orang yang membeli barang dagangan penjual disebut \_\_\_\_\_
22. Sebutkan 4 syarat-syarat terjadinya kegiatan jual-beli!

Jawab:

---



---


**KD. 3.4 Mengenal denah lingkungan rumah dan denah lingkungan sekolah.**

23. Perhatikan gambar berikut!



Gambar tersebut adalah ....

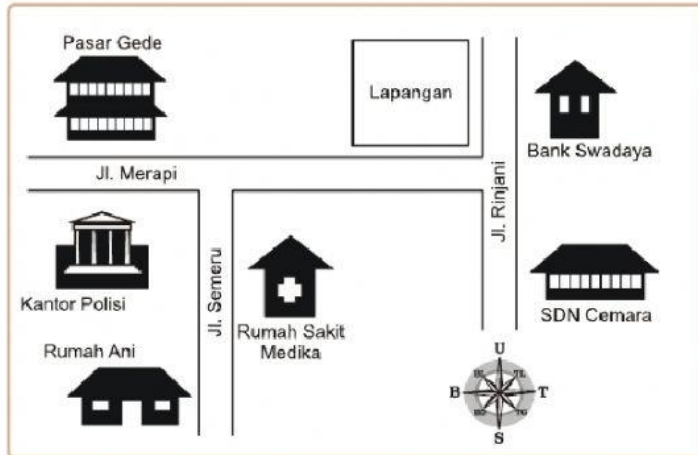
- A. atlas
  - B. denah
  - C. globe
24. Berikut ini yang bukan hal-hal yang ada dalam denah adalah ....
- A. nama pembuat denah
  - B. judul denah
  - C. lokasi yang dituju
25. Perhatikan lambang berikut!



Lambang tersebut dinamakan ....

- A. bintang kejora
- B. bujur angin
- C. arah mata angin

Perhatikan denah berikut untuk mengerjakan nomor 26 dan nomor 27!



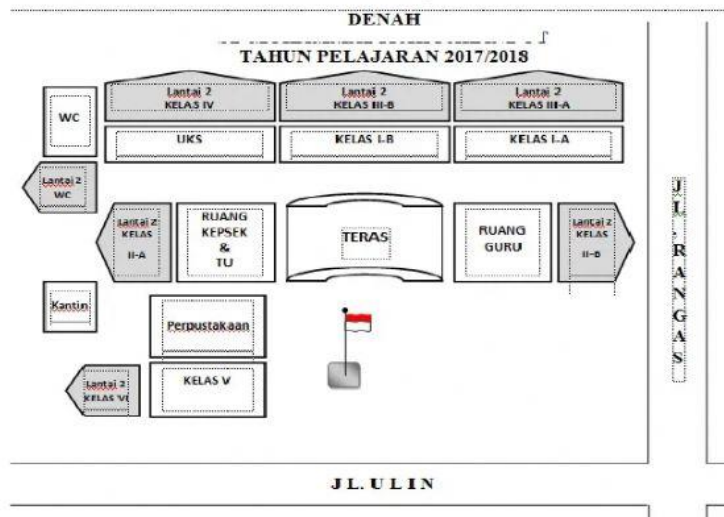
26. Lokasi Pasar Gede ada di Jalan ... dan Pasar Gede bersebrangan dengan ....

- A. Merapi, Lapangan
- B. Merapi, Kantor Polisi
- C. Semeru, Kantor Polisi

27. Rumah Ani ada di jalan \_\_\_\_\_

28. Denah adalah \_\_\_\_\_

Perhatikan denah berikut untuk menjawab soal nomor 29 dan nomor 30!



29. Ruang yang berada di antara ruang kepala sekolah dan ruang kelas V adalah \_\_\_\_\_

30. Kelas III B ada di lantai 2, kelas III B terletak di antara ruang \_\_\_\_\_ dan \_\_\_\_\_



**KD. 3.5 Memahami uang.**

31. Gambar berikut yang merupakan uang Indonesia adalah ....



32. Perhatikan gambar uang berikut!



Ciri-ciri uang yang ditunjukkan oleh huruf a dan b adalah ....

- A. gambar gubernur dan nomor seri uang
- B. gambar pahlawan dan nomor bank Indonesia
- C. gambar pahlawan nasional dan nomor seri uang

33. Perusahaan yang bertugas mencetak uang di Indonesia adalah ....
- A. Perum Peruri
  - B. Perum Damri
  - C. Bank
34. Jenis uang yang dapat digunakan di pasar tradisional yaitu uang kertas dan uang \_\_\_\_\_
35. Alat tukar yang digunakan dalam transaksi jual-beli dinamakan \_\_\_\_\_
36. Mata uang negara Indonesia yaitu \_\_\_\_\_
37. Anak-anak dapat menabung uang di bank dan di \_\_\_\_\_
38. Sebutkan 5 kegunaan uang!
- Jawab:

---

---

---

#### **KD. 3.6 Mengenal pasar**

39. Tempat bertemunya penjual dan pembeli disebut ....
- A. sekolah
  - B. rumah sakit
  - C. pasar
40. Perhatikan gambar berikut!



- Gambar tersebut merupakan contoh pasar ...
- A. tradisional
  - B. semi modern
  - C. modern
41. Proses percakapan antara pembeli dan penjual untuk menentukan harga yang sama-sama diinginkan, biasanya banyak dilakukan di pasar tradisional. Proses tersebut dinamakan ....
- A. pemaksaan
  - B. tawar-menawar
  - C. adu mulut

Cermati nama beberapa pasar berikut untuk menjawab soal nomor 42 dan 43 :

- |                            |                      |
|----------------------------|----------------------|
| 1) Palmerah                | 4) Indomaret         |
| 2) Superindo               | 5) Carrefour         |
| 3) Pasar Induk Kramat Jati | 6) Pasar Tanah Abang |

42. Pasar modern ditunjukkan oleh nomor \_\_\_\_\_, \_\_\_\_\_ dan \_\_\_\_\_
43. Pasar Tanah Abang merupakan jenis pasar \_\_\_\_\_
44. Tawar-menawar dapat dilakukan dalam pasar \_\_\_\_\_
45. Sebutkan 3 contoh pasar tradisional yang ada di sekitar lingkungan rumah anak-anak!

Jawab :

---